

A

1 Aşağıdaki eserlerden hangisi Namık Kemal'e ait değildir?

- A) Vatan Yahut Silistre
- B) Kara Bela
- C) Gülnihal
- D) Şair Evlenmesi
- E) İntibah

2 Aşağıdakilerden hangisi "fıkra" türünün özelliklerinden biri değildir?

- A) Bilimsel bir makalenin özünü andırır
- B) Türk Edebiyatı'ndaki ilk fıkra örnekleri Ahmet Rasim'e aittir
- C) Konu alanı geniştir, güncel konuları işler
- D) Dili oldukça yalındır ve okuru etkileyecek özelliktedir
- E) Kanıtlama amacı yoktur; okuru düşünmeye sevk eder

3 Aşağıdaki atasözlerinden hangi ikisi anlamca birbirine en yakındır?

- I- Bir suçla adam asılmaz.
- II- Bir düştüğün yerde, bir daha düşme.
- III- Serçeden korkan darı ekmez.
- IV- Suçu kimse üstüne almaz.
- V- Bir kez sürçen atın ayağı kesilmez.

- A) II - III
- B) I - II
- C) II - IV
- D) IV - V
- E) I - V

A

4 Baki Efendi, en sevdiğim şairlerdendir; bence Osmanlı şairlerinin en büyüğü odur. Nedim'in hoş bir edası, Galip'in bir derinliği vardır. Nefi'de ise bizi saran, sanki ayağımızı yerden kesen bir hava buluruz. Ama Baki'nin şiirini okurken duyduğum saygıyı, öteki şairlerimizi okurken duyamadım. Baki Divanı'nı açınca kendimi ermiş gibi hissediyorum.

Bu parçanın anlatımında, aşağıdakilerden hangisi ağır basmıştır?

- A) Betimleme
- B) Örnekleme
- C) Karşılaştırma
- D) Tanık gösterme
- E) Tanımlama

5 "Küçük Prens uykuya dalınca onu kollarına alarak yola çıktım. Duygulanmış ve coşmuştum. Kollarımda sırça bir hazine taşıyordum sanki. Yeryüzünde ondan daha kolay örselenebilen bir varlık daha yoktu. Ay ışığında o solgun alna, o yumulu gözlere, uçuşan saçlara bakıyor ve hüzünleniyordum."  
Bu parçada aşağıdakilerden hangisine örnek yoktur?

- A) Bağımsız sıralı cümle
- B) Devrik cümle
- C) Bileşik cümle
- D) Bağımlı bağlı cümle
- E) İsim cümlesi

A

- 6 Bir kenarı 6 cm olan bir kübün yanal alanları toplamı ile hacminin oranı aşağıdakilerden hangisine eşittir?
- A) 3  
B) 2  
C)  $\frac{3}{2}$   
D) 1  
E)  $\frac{4}{3}$
- 7 18 dakika : 2 saat oranı aşağıdakilerden hangisine eşittir?
- A)  $\frac{3}{20}$   
B)  $\frac{7}{15}$   
C) 9  
D)  $\frac{3}{10}$   
E)  $\frac{1}{9}$
- 8 Ağırlığı 125 gr olan bir balık konservesi 18 gr kadar yağ içermektedir. Satın aldığım 27 konservedeki balığın net ağırlığı kaç kg'dır?
- A) 2,889 kg  
B) 2,5 kg  
C) 2,364 kg  
D) 2,75 kg  
E) 3,375 kg

A

- 9 Ahmet'in üç sınavdan aldığı notlar 78, 76 ve 74, Ayşe'nin aldığı notlar ise 72, 82 ve 74'tür. Ahmet ve Ayşe'nin notlarının aritmetik ortalamalarıyla ilgili aşağıdakilerden hangisi doğrudur?
- A) Ahmet, Ayşe'ye 2 puan fark atıyor.  
B) Ortalamalar eşittir.  
C) Ahmet, Ayşe'ye 1 puan fark atıyor.  
D) Ayşe, Ahmet'e 1 puan fark atıyor.  
E) Ayşe, Ahmet'e 1 puan fark atıyor.
- 10  $3^n = 2$  ise  $\frac{9^{2n}}{27^{n-1}}$  ifadesi aşağıdakilerden hangisine eşittir?
- A) 54  
B) 36  
C) 27  
D) 18  
E) 9
- 11 "Kuvvet" kavramı aşağıda verilen özelliklerden hangisini taşımaz?
- A) Hareketli bir cismin kütleini değiştirmek  
B) Hareketli bir cisimi durdurmak  
C) Hareketli bir cismin yönünü değiştirmek  
D) Duran bir cisimi harekete geçirmek  
E) Hareketli bir cismin doğrultusunu değiştirmek

A

12 Sesin, ince(tiz) veya kalın(pes) olma ayrımı belirleyen özelliği, aşağıdakilerden hangisidir?

- A) Yansıma
- B) Frekans
- C) Şiddet
- D) Kırılma
- E) Tını

13 I. Belirli bir kaynama noktasının olması  
II. Kimyasal yöntemlerle ayrıştırılabilmesi  
III. Elektrik akımını iletmesi

Yukarıdaki olayların hangileri bir maddenin bileşik olduğunu kesinlikle kanıtlar?

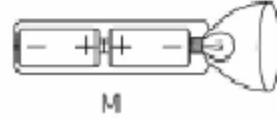
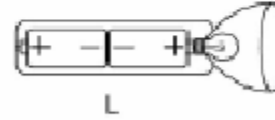
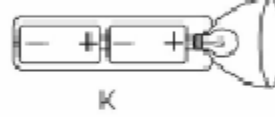
- A) Yalnız III
- B) Yalnız I
- C) I ve II
- D) Yalnız II
- E) II ve III

14 Kediler, üreme bakımından, aşağıdaki hayvanların en çok hangisine yakındır?

- A) penguenler
- B) yunuslar
- C) kurbağalar
- D) timsahlar
- E) kaplumbağalar

A

15 Aşağıdaki resimlerde, farklı biçimlerde yerleştirilmiş pillerin bulunduğu el fenerleri gösterilmektedir. Işığın yanabilmesi için pillerin hangi resimde gösterildiği gibi yerleştirilmesi gerekir?



- A) Hem "K" hem de "L"
- B) Sadece "M"
- C) Sadece "K"
- D) Sadece "L"
- E) Hiçbiri

16 Renklendirme yöntemi ile eğitim amaçlı hazırlanan haritalarda sarı renk ile ifade edilen yükselti basamağı aşağıdakilerden hangisidir?

- A) 1500-2000
- B) 0-500
- C) 0-1000
- D) 500-1000
- E) Hiçbiri

A

17 KKTC'de en az yağış alan yerleşim bölgesi aşağıdakilerden hangisidir?

- A) Yeşilırmak
- B) Girne
- C) Lefkoşa
- D) Güzelyurt
- E) Yenierenköy

18 Yağış rejimi aşağıdakilerden hangisini en az etkiler?

- A) Akarsu Rejimini
- B) Sanayi faaliyetlerini
- C) Bitki örtüsünü
- D) Toprak oluşumunu
- E) Yetiştirilen tarım ürünlerini

19 Yerşekillerinin biçimi iç ve dış kuvvetlerin etkisiyle sürekli olarak değişir. Aşağıdakilerin hangisinde iç kuvvetlerin payı en büyüktür?

- A) Akarsu aşındırmasında
- B) Vadilerin oluşumunda
- C) Dağ oluşumunda
- D) Kıyı şekillenmesinde
- E) Kayaların oluşumunda

A

20 KKTC'de geniş tarım alanlarının arpa tarımına ayrıldığını, buğday tarımına ayrılan alanlarınsa daha az olduğunu görmekteyiz.

Aşağıdakilerden hangisi bunun temel sebebidir?

- A) Tarım alanlarının az olması
- B) Buğdayın satılamaması
- C) Arpanın daha pahalı olması
- D) Yağışların düzensiz-yetersiz olması
- E) Buğday tarımının daha zor olması

21 Modelin yapısal özelliğine bağlı, örtüsünün niteliğine ne denir?

- A) Üslup
- B) Görüntü
- C) Hareket
- D) Yüzey
- E) Doku

22 Aşağıdakilerden hangisi metal yazı ucu değildir?

- A) Z tipi kesik uç
- B) T tipi kesik uç
- C) tablalı uç
- D) tükenmez kalem
- E) N tipi kesik uç

A

23 Siyah ve beyaz için aşağıdaki ifadelerden hangisi yanlıştır?

- A) Resimde en açık ve en koyu renklerdirler
- B) Renk değildirler
- C) Siyah ve beyaz karıştırıldığı zaman külrengi elde edilir
- D) Resimde renk oluşturmada nötürdürler
- E) Renklere karıştırıldıklarında o renklerin grilerini oluştururlar

24 Somut işlem basamağına gelmemiş ve ağacı maviye boyayan çocuğa karşı aşağıdakilerden hangisi doğru davranış biçimidir?

- A) Hiçbir şekilde karışmam
- B) Bahçeye çıkarır ağacın rengini gösteririm
- C) Doğru renge boyaması için rengini seçerim
- D) Velisine sormasını öneririm
- E) Doğru rengi ile çizim kağıdının bir kenarına ben yaparım

25 Hayat bilgisinde öğrenci ilkokul I. Sınıfa geldiğinde, "Aile" ile ilgili birtakım sembol niteliğinde, bilgileri mevcuttur. Bu olgu hangi seçeneğe örnek teşkil etmektedir?

- A) Psiko-motor giriş davranışları
- B) Duyuşsal giriş davranışları
- C) Hazır bulunuşluk düzeyi
- D) Bilişsel giriş davranışları
- E) Giriş davranışları

A

26 Aşağıdakilerden hangisi, Hayat Bilgisi dersinde işaret öğretimi ile ilgili doğru bir seçenek değildir?

- A) İşaretler devamlı olmalı
- B) İşaretler doğru olmalı
- C) İşaretler farklı koşullarda farklı anlamda kullanılabilir
- D) İşaretler tutarlı olmalı
- E) İşaretler aynı koşullarda farklı anlamda kullanılabilir

27 Literatüre göre öğrenci, Hayat Bilgisi dersinde öğrendikleri ile sosyal ve kişisel yönlerden gelişmektedir. Öğrencilerin öğrendikleriyle geliştiği diğer bir yön ise hangi seçenekte verilmiştir?

- A) Kişisel
- B) Etik
- C) Felsefik
- D) Ahlaki
- E) Bilimsel

A

28 Hayat Bilgisi dersinde Lefke bölgesinden İlkokul III. Sınıf bir öğrenci, ödev çalışmasında, CMC maden ocaklarının yarattığı çevre kirliliğini araştırdıktan sonra, bir "Gazete Makalesi" yazmıştır. Makalesinin ana fikri ise; O bölgede yetişen sebze ve meyvelerde insan sağlığına zararlı maddeler bulunabileceği ve bölgenin temizlenmesi gerektiğidir.

Bu durum hangi seçenikle açıklanabilir?

- A) Çok boyutlu düşünebilme
- B) Bilgi toplamaya ilişkin beceri
- C) İnsanlar arası ilişkilerle ilgili beceri
- D) Bilgi düzenlemeye ve kullanmaya ilişkin beceri
- E) Bilimsel yöntemi kullanabilme

29 Hayat Bilgisi öğretiminde, "tüm canlıların doğar, yaşar, çoğalır ve ölür" niteliğindeki bilgileri öğrencilere aktarmak isteyen bir öğretmen, Bloom'un aşamalı sınıflamasına göre hangi düzeyde hedef ve davranışlar yazmalıdır?

- A) Yönelimler ve Aşamalar bilgisi
- B) İlke ve Genellemeler bilgisi
- C) Sınıflamalar bilgisi
- D) Kavramlar bilgisi
- E) Olgular bilgisi

30 Glokenspil, metalofon, gong ve flütten oluşan Endonezya orkestrasına ne ad verilir?

- A) Salsa
- B) Fanfar
- C) Ostinato
- D) Gamelon
- E) Pop

A





31 Aşağıdaki şıklardan hangisi müzik yeteneğinin kapsadığı özelliklerdendir?

- A) Ses yüksekliklerini ayırt etme
- B) Müziksel işitme
- C) Duyarlılık
- D) Ritim duygusu
- E) Hepsi

32 Bir şarkının ezgisel yapısını ifade eden sözcük aşağıdakilerden hangisidir?

- A) ritim
- B) vuruş
- C) solfej
- D) tartım
- E) artikülasyon

33 Aşağıdaki ritimlerden hangisi senkoplu ritim değildir?

- A) 
- B) 
- C) 
- D) 
- E) 

A

34 Çoklu zeka kuramının temellerini kim oluşturmuştur?

- A) Vygotsky
- B) Rousseau
- C) Dewey
- D) Gardner
- E) Piaget

35 Formal yolla gerçekleştirilen çocuk bakımı kimler tarafından yürütülmektedir?

- A) Gündüz bakımevleri
- B) Anasınıfları
- C) Anaokulları
- D) Aile dostları
- E) Yakın akrabalar

36 Aşağıdakilerden hangisi, okulöncesi öğretmenlerinde bulunması gereken özelliklerden biri değildir?

- A) Çocuklara gerektiği zaman buyruk verici, sert ve korkutucu bir ses tonuyla konuşabilme
- B) Günlük etkinliklere uygun ve çekici bir biçimde giyinme
- C) Sorumluluk almayı bilme
- D) Beden ve ruh bakımından sağlıklı, canlı ve becerikli olma
- E) Çocuğun dinleme, anlam ve anlatma yeteneğini geliştirme

A

37 Aşağıdaki ifadelerden hangisi okul öncesi eğitim kurumlarındaki bahçe için söylenemez ?

- A) Bahçe araç-gereçleri sık sık kontrolden geçirilmeli ve gerektiğinde yenilenmeli.
- B) Çocukların farklı alanlardaki yürüyüşleri algılamaları için bahçede asfalt, toprak, çim ve kum alanlar olmalı
- C) Bahçenin taşlardan, çukurlardan, su birikintilerinden ve çöplerden arındırılması çocuklarla birlikte yapılmalı
- D) Salıncak, kaydırak, tahtaravalli, tırmanma merdiveni gibi bahçe oyuncakları olmalı
- E) Bahçedeki bitkiler gözden geçirilerek, çocuklar için zararlı olan bitkiler temizlenmeli

38 Aşağıda dinlenme odası ile ilgili verilen ifadelerden hangisi yanlıştır?

- A) Oyun odası dinlenme sırasında portatif yataklar kullanılarak dinlenme alanına dönüştürülebilir
- B) Ayrı bir dinlenme odası varsa burası binanın sakin, gürültüden uzak bir yerinde bulunmalıdır
- C) Çocukların rahat dinlenebilmeleri veya uyuyabilmeleri açısından loş bir şekilde aydınlatılmış olmalıdır
- D) Dinlenme sırasında kullanılan yataklar yerden 60 cm yükseklikte olmalıdır
- E) Portatif yatakların kolay temizlenebilir ve taşınabilir olmasına özen gösterilmelidir

A

39 İnternette istenilen bilgiye ulaşmada, genellikle arama motorları kullanılır. Arama motorlarını kullanırken, etkin arama yöntemleri, doğru bilgiye kolay ulaşmamızı sağlar. Aşağıdakilerden hangisi eğitim teknolojisi ile ilgili doğru ve az sayıda bilgiye ulaşmakta en etkin arama yöntemidir?

- A) "eğitim teknolojisi"
- B) eğitim - teknoloji
- C) eğitim veya teknoloji
- D) eğitim teknolojisi
- E) eğitim ve teknoloji

40 Bilgisayar kullanırken verimli çalışma ortamının oluşturulması, insan sağlığı ve rahatlığı yönünden önemlidir. Aşağıdakilerden hangisi verimli çalışma ortamından biridir?

- A) Multimedya klavye kullanılmalıdır
- B) Monitör göz hizasından 10 cm aşağıda olmalıdır
- C) Oda ve ekrandan gelen aydınlık aynı olmalıdır
- D) Göz ile ekran arasındaki uzaklık 50 cm olmalıdır
- E) Aydınlık ekrana karşıdan gelmelidir

A

41 BDE (Bilgisayar Destekli Eğitim) öğrenciye sağladığı faydalar arasında; aktif öğrenmeye olanak sağlaması, duygusal ve algısal modellerin çeşitlenmesine fırsat sağlaması, daha az zihnen sıkıcı iş yapılması ve öğrenmeyi daha fazla bireyselleştirmesidir. BDE'nin öğretim ortamında öğrenciye sağladığı faydalardan etkin yararlanılabilmesinde aşağıdakilerden hangisi doğrudur?

- A) Bütün eğitim ortamlarının artık BDE ortamlarına taşınması
- B) BDE sağladığı faydalarla öğretmen etkinliğinin azalması
- C) BDE'nin hangi amaçlara yönelik kullanılacağını saptanması ve amaca uygun eğitim programlarının seçilmesi gerekmektedir.
- D) Bilgisayar, eğitimde bir araç olarak değil, eğitim aracı olarak kullanılmalıdır
- E) BDE'de öğrenci motivasyonunun olumsuz yönde etkilenmesi

42 Aşağıdaki özel gereksinimi olan çocuklardan hangisi diğerlerine göre farklı bir özür grubuna girer?

- A) Özgül öğrenme güçlüğü
- B) Fragile X sendomu
- C) Hidrosefali
- D) Down Sendromu
- E) Zeka geriliği

A

43 Aşağıdaki ifadelerden hangisi 'Disleksi Çocukları' tanımlamaktadır?

- A) Fiziksel yetersizliğinden dolayı yürüyemeyen, hareket edemeyen, konuşamayan çocuklar
- B) Dinleme, konuşma, yazma, akıl yürütme ile matematik yeteneklerin kazanılmasında ve kullanılmasında sorun yaşayan çocuklar
- C) Sınırlı dil gelişimine sahip, zeka düzeyleri normalin altında olan çocuklar
- D) Diş,diş etlerindeki veya dil altı bağı nedeniyle bazı harfleri söyleyemeyen veya söylemekte zorlanan çocuklar
- E) Dikkat eksikliği ve hiperaktivitesi olan çocuklar

44 Aşağıdakilerden hangisi özel eğitimin konulardan değildir?

- A) Özel eğitim - genel eğitim işbirliği
- B) Erken müdahale
- C) Aile ile işbirliği
- D) En az kısıtlayıcı ortam
- E) Özel gereksinimli çocuklara etiketleme(teşhis konulması) yapılması

45 Aşağıdakilerden hangisi özel eğitime gereksinimli çocuğa uygulanacak yöntemlerden biri değildir?

- A) Çocuğun bulunduğu düzeyden başlayarak eğitime devam etmek
- B) Normal yaşlıları ile birlikte aynı hızda aynı akademik becerileri kazanmak
- C) Aileyi çocuğun eğitiminde aktif konuma getirmek
- D) Kazandırılacak becerileri basitten başlayarak öğretmek
- E) Eğitimlerinde sık sık tekrar çalışmalarını yapmak

A

46 Sınıf öğretmeni, dikkat eksikliği ve hiperaktivite bozukluğu olan çocuklar için, aşağıdakilerden hangisini yapmamalıdır?

- A) Göz önünde oturtmalıdır
- B) Ceza olarak teneffüslerde sınıfta bırakmalıdır
- C) Dinlemiyor görüldüğü zamanlarda konuşmayı kesip göz kontağı kurup tekrar konuşmalıdır
- D) Çocuğa amaçlı sorumluluklar, görevler vererek sınıf içinde dolaşmasını sağlamalıdır
- E) Ders yaparken çalışma sürelerini kısa tutmalı ve sık sık ara vermelidir

47 Aşağıdakilerden hangisi spora yönelik hareketler dönemine bağlı olarak çocukların "spora hazırlık oyunlarına başlama yaşıdır" ?

- A) 2-6 yaş
- B) 9 yaş
- C) 11 yaş
- D) 10 yaş
- E) 8 yaş

A

48 Aşağıdakilerden hangisi beden eğitimi ve spor eğitiminin "çocuk ve gençler için önemi" dışında kalmaktadır?

- A) Ekonomik düzenin getirdiği düşünce, davranış bilgi ve becerilerin bireylere aktarılmasını sağlamak
- B) Yetenek esaslarına göre fırsat eşitliği sağlamak
- C) Kötü alışkanlıklardan daha kolay kurtulmaya yardımcı olmak
- D) Bireyi topluma hazırlamak
- E) Genç nesillerin yapıcı, yaratıcı ve üretken olmasına katkı sağlamak

49 "Genelde top ile oynanan takım oyunlarında amacı bir hücumu başarı ile uygulayabilmek ve en uygun pozisyonda sayıya gitmek için topun hücum eden takımın oyuncularını tarafından emniyetli ve kontrollü olarak birbirlerine aktarılmasıdır." Bu tanıma aşağıdakilerden hangisi uygundur?

- A) Pas
- B) Top tutma
- C) Top sürme
- D) Şut
- E) Servis

A

50 "7 - 8 yaş grubunda bulunan çocuklara beden eğitimi faaliyetleri kapsamında basit temel oyunların ve sporla ilişkili temel hareketlerin verilmesi gerektiği bilinmektedir. Ancak bu yaş grubunda bulunan çocukların fizyolojik ve anatomik gelişimlerine bakıldığı zaman kas ve kemik gelişimleri, solunum ve dolaşım sistemleri gelişiminden daha hızlı olduğu görülür." Buna göre aşağıdakilerden hangisi doğrudur?

- A) Çocuklara hızlı bir gelişim gösterdiklerinden ağır yüklenmeler yaparak kas ve kemik gelişimlerinde katkı sağlanmalıdır.
- B) Beden eğitimi uygulamaları sırasında çocuklara sık sık dinlenme aralıkları verilmelidir
- C) Dolaşım, solunum, kas sistemlerini geliştirmek ve büyük kas gruplarını çalıştırmak yerine küçük kas gruplarını çalıştırmak hedeflenmelidir.
- D) Spor karşılaşmalarına önem verilerek geleceğin şampiyonlarını yetiştirmek için ağırlık çalışmalarına başlanmalıdır.
- E) Çocuğun katılacağı spor branşına yönelik teknik ve taktik çalışmalarına başlanmalıdır.

TEST BİTTİ

CEVAPLARINIZI KONTROL EDİNİZ