

A

1 **Ort Asya ve ilk Türk İslam devletlerinde, temel yönetim anlayışlarından hangisi devletin bölünmesini ve yıkılışını hızlandırmıştır?**

- A) Devletin boylardan oluşması
- B) Ordularının paralı askerlerden oluşması
- C) Ülkenin hanedanın ortak malı sayılması
- D) Kurultayın, hakanların yetkilerini sınırlandırmış olması
- E) Yerleşik yaşama geçilmemiş olması

2 **I. III.Selim
II. II.Mahmut
III. I.Mahmut
IV. III.Ahmet
V. III.Mustafa
Hangisi askerlik alanda ıslahat yapmamıştır?**

- A) I
- B) III
- C) II
- D) IV
- E) V

3 **I.TBMM aşağıdakilerden hangisiyle ilk defa dış yardım alınmıştır?**

- A) Moskova Antlaşması
- B) Lozan Antlaşması
- C) Ankara Antlaşması
- D) Gümrü Antlaşması
- E) Mudanya Antlaşması

A

4 **1928 senesinde, anayasada var olan "Türkiye Cumhuriyeti Devletinin Dini İslamdır" ifadesinin çıkarılması hangi ilkeyle örtüşmektedir?**

- A) Laiklik
- B) Halkçılık
- C) Devletçilik
- D) Milliyetçilik
- E) Devrimcilik

5 **Aşağıdaki ülkelerden hangisi Osmanlı Devleti'nin hakimiyetine girmemiştir?**

- A) Bulgaristan
- B) İspanya
- C) Yunanistan
- D) Suriye
- E) Kıbrıs

6 **Osmanlı İmparatorluğu'nun İngiltere ile 1838'de imzaladığı Balta Limanı Ticaret Sözleşmesi'nin bu devletin tarihinde çok önemli bir dönüm noktası teşkil ettiği genel kabul görmektedir. Aşağıdakilerden hangisi bu anlaşmanın sonuçları arasında yer alabilir.**

- A) Osmanlı İmparatorluğu'nun ekonomisi kendi kendine yeter hale gelmiştir
- B) Artan rekabet nedeniyle Osmanlı zanaatları güçlenmiştir
- C) Bu anlaşma neticesinde makineli üretime dayalı ucuz İngiliz mallarının Osmanlı pazarlarına daha çok girmeye başlaması, geleneksel Osmanlı zanaatlarının gerileme sürecine hız kazandırmıştır
- D) Osmanlı İmparatorluğu'nun dış ticaret hacmi 19. yüzyıl boyunca azalmıştır
- E) Hiçbiri

A

- 7 Tarih sıralamasına göre ilk cereyan eden olay hangisidir?
- A) Amasya Genelgesi
B) Erzurum Kongresi
C) Sivas Kongresi
D) T.B.M.M'nin açılması
E) Sevr Anlaşması.
- 8 Aşağıdaki inkılâp hareketlerinden hangisi laiklik ilkesi ile ilgilidir?
- A) Ölçü birimlerinin değiştirilmesi
B) Tekke, zaviye ve türbelerin kapatılması
C) Türk Tarih Kurumu'nun kurulması
D) Planlı ekonomiye geçiş
E) Köy Enstitüsü'nün açılması
- 9 Hangi olay zaten başlamış olan Müdafaa-i Hukuk örgütlenmelerini hızlandırmış olabilir?
- A) Halife Vahdettin'in Cihad çağrısı
B) İzmir'in Yunanlılar tarafından işgali
C) Lozan'ın imzalanması
D) İstanbul'un işgali
E) Hiçbiri

A

- 10 Cilalı Taş Devrini, Yontma Taş Devrinden ayıran toplum yaşamındaki en önemli değişiklik nedir?
- A) Avcılık-toplayıcılıktan tarıma, göçebelikten yerleşik düzene geçilmesi
B) Havalanın ısınarak, buzulların çözülmesi
C) Menhir ve Dolmen adını taşıyan anıtların yapılması
D) Kullanılan taş aletlerin cilalanması
E) Yontma Taş devri sonlarında ateşin bulunması
- 11 Aşağıdaki dinlerden hangisi Perslerin Hellenistik Uygarlığa mirasıdır?
- A) Zerdüştlük
B) Hıristiyanlık
C) İslam
D) Budizm
E) Musevilik
- 12 Pers Savaşları hakkında yazmış, "tarihin babası" olarak da bilinen ve "tarih"(history) kelimesini günümüzdeki anlamıyla ilk kullanan tarihçi kimdir?
- A) Herodot
B) Xenophon
C) Hippokrat
D) Thucydides
E) Aristo

A

13 **I. İlkçağ sona ermiş ortaçağ başlamıştır.
II. Avrupa'nın siyasi yapısı değişmiştir.
III. Derebeylik rejiminin kurulmasına neden olmuştur.
Yukarıdaki gelişmeler hangi olayın sonuçlarıdır?**

- A) İstanbul'un Fethi
- B) Haçlı Seferleri
- C) Reform Hareketleri
- D) Coğrafi Keşifler
- E) Hiçbiri

14 **Eski Türklerde devlet hükümdar ailesinin ortak malıdır. Bu durumun eski Türk devletleri üzerindeki en önemli sonucu hangisidir?**

- A) Devletler daha kolay yönetilmiştir
- B) Türk devletleri kalkınmıştır
- C) Devletler geniş sınırlara ulaşmıştır
- D) Devletler kısa sürede parçalanmıştır
- E) Devletler uzun ömürlü olmuştur.

15 **Eski Türk devletlerinde boy beyleri ve aile ileri gelenlerinden oluşan "kurultay" meclisinin varlığı aşağıdakilerden hangisine işaret eder?**

- A) Egemenliğin yalnızca hükümdara ait olmadığına
- B) Yaşam tarzının göçebe olduğuna
- C) Mutlak hükümdarlık sisteminin varlığına
- D) Hükümdarın yetkilerinin sınırsız olduğuna
- E) Kardeş kavgalarının olduğuna.

A

16 **Aşağıdakilerden hangisi Avrupa'daki Reform hareketlerinin sonuçlarından biri değildir?**

- A) Papa'nın siyasal gücünün azalması
- B) Eğitim-öğretimde laikleşme
- C) Katolik Kilisesinin kendi içinde yenilikler yapması
- D) Avrupa'da dinin bir çeşit millileşmesi
- E) Mezhep savaşları ile çekişmelerinin sona ermesi

17 **Aşağıdakilerden hangisi Birinci Dünya Savaşı'nın sebeplerinden biri sayılmaz?**

- A) Sanayi Devrimi nedeniyle devletler arasında hammadde-pazar rekabetinin artması
- B) Birliklerini geç tamamlayan Almanya ve İtalya'nın mevcut dünya düzenini değiştirmek istemeleri.
- C) Avrupalı devletler arasındaki sömürgecilik yarışı
- D) Yunanistan'ın Kıbrıs'ı ele geçirmek isteyen yayılmacı bir politika izlemesi
- E) Balkanlardaki buhranlar

18 **Aşağıdaki kelimelerden hangisi, Kıbrıs'ın Yunanistan'a bağlanması fikriyle özdeşleşmiştir?**

- A) EOKA
- B) Megali İdea
- C) Enosis
- D) Milliyetçilik
- E) Büyük Ülkü

A

19 Aşağıdakilerden hangisi, Kıbrıslı Türklerin İkinci Dünya Savaşı sırasında kurmuş oldukları siyasi örgütlerden biridir?

- A) Meclis-i Milli
- B) Osmanlı Kırathanesi
- C) Kıbrıs Adası Türk Azınlığı Kurumu (KATAK)
- D) Kıbrıs Türk Kurumları Federasyonu (KTKF)
- E) Geçici Türk Yönetimi

20 1960 Kıbrıs Cumhuriyeti'yle ilgili olarak aşağıdaki cümlelerden hangisi doğru değildir?

- A) Yasama yetkisi, yetmiş-otuz oranına göre her iki toplumdaki seçilen Temsilciler Meclisi'nin yetkisindedir
- B) Cumhuriyet'in bakanlar kurulu yedi Rum ve üç Türk bakandan oluşmaktaydı
- C) Cumhuriyet'in bayrağı, Kıbrıslı Türk sanatçı İsmet V. Güney tarafından çizilmiş olup, Kıbrıslı Rumlar tarafından halen kullanılmaktadır.
- D) Cumhuriyet'in, yüzde altmış Rumlar ve Türklerden, yüzde kırkı ise Birleşmiş Milletler askerlerinden oluşan bir ordusu vardı
- E) Cumhuriyet'in kamu hizmetlerindeki memurlarının, yüzde yetmişini Kıbrıslı Rumlar, yüzde otuzunu ise Kıbrıslı Türkler oluşturmaktaydı

A

21 Aşağıdakilerden hangisi 1960 Kıbrıs Cumhuriyeti Anayasası'nda yer almaz?

- A) Cumhuriyetin, veto yetkisi olmayan cumhurbaşkanı Kıbrıslı Rum, veto yetkisi olan cumhurbaşkanı muavini ise Kıbrıslı Türk olacak.
- B) Her iki toplumun kendilerine ait birer cemaat meclisleri olacak
- C) Cumhuriyetin resmi dili Türkçe ve Rumca olacak
- D) Cumhuriyetin tarafsız renk ve desende bir bayrağı olacak
- E) Cumhuriyetin en büyük beş şehri olan Lefkoşa, Limasol, Mağusa, Baf ve Larnaka'da Kıbrıslı Türklerin ayrı belediyeleri olacak

22 Osmanlı devleti, 1878 yılında Kıbrıs Adası'nın yönetimini geçici olarak Büyük Britanya İmparatorluğu'na devretti. Birinci Dünya Savaşı sırasında İngilizler Kıbrıs'ı tek yanlı olarak ilhak ettiklerini ilan ettiler. Bundan sonra, Osmanlı hükümeti aşağıdaki anlaşmaların hangisiyle Kıbrıs'ın bir İngiliz toprağı olduğunu kabul etmiştir?

- A) Lozan Barış Antlaşması
- B) Paris Barış Antlaşması
- C) 1960 Antlaşmaları
- D) Londra Antlaşması
- E) Sevr Antlaşması

A

23 Aşağıdakilerin hangisi Osmanlı devletinin Kıbrıs'ı fethetme sebeplerinden biri sayılamaz?

- A) Doğu-Batı ticareti açısından Kıbrıs'ın önemli bir üs konumunda olması
- B) Kıbrıslı Rumların adada yaşayan Müslüman Türklere kötü davranışlarını önlemek
- C) Müslüman gemilerinin korsan saldırılara uğraması
- D) Doğu Akdeniz'in güvenliğini sağlamak
- E) Hepsi

24 Kıbrıs aşağıdaki devletlerin hangisinin yönetimi altına girmemiştir?

- A) Yunanistan
- B) Osmanlı İmparatorluğu
- C) Bizans İmparatorluğu
- D) Helenistik İmparatorluk
- E) Roma İmparatorluğu

25 Kıbrıs Adası tarih boyunca çeşitli açılardan "önemli" sayılmıştır. Aşağıdakilerden hangisi adanın, Hıristiyanlık tarihi açısından önemine işaret etmektedir?

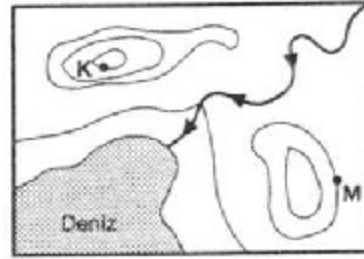
- A) Adanın askeri olarak stratejik bir üs konumunda olması
- B) Adanın ticaret yolları üzerinde bulunması
- C) HZ Muhammet'in akrabası olan Ümmü Haram'ın Ada'nın Müslümanlar tarafından fethi sırasında şehit düşmesi ve türbesinin Kıbrıs'ta olması
- D) Adanın, yöneticisi Hıristiyan olan ilk ülke olması
- E) Ada'nın bakır madenleri açısından zengin olması.

A

26 Aşağıdakilerden hangisi Türkiye'nin az nüfuslanmış yörelerinden birisi DEĞİLDİR?

- A) Taşeli platosu
- B) Menteşe yöresi
- C) Yıldız bölümü
- D) Tuzgölü çevresi
- E) Bafra ovası

27



Yukarıdaki izohips haritasında K – M arasındaki yükselti farkı 450 m olduğuna göre izohipsler arasındaki fark kaç metredir?

- A) 125
- B) 225
- C) 450
- D) 900
- E) 80

28 Bir yerin nem oranı, aşağıdakilerden hangisi hakkında bilgi vermez?

- A) Tarım etkinlikleri
- B) Sıcaklık değerleri
- C) Denize uzaklığı
- D) Bitki örtüsü
- E) Endüstri düzeyi

A

29 Türkiye $26^u - 45^u$ Doğu meridyenleri, $36^0 - 42^0$ Kuzey paralelleri arasındadır. Bu bilgilere dayanarak Türkiye'nin aşağıdaki özelliklerden hangisinin belirlenmesi zordur?

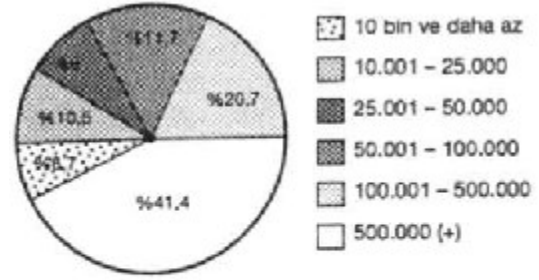
- A) Ortalama sıcaklıkları
- B) Güneş ışınlarını alma açısı
- C) Saat dilimi
- D) Kuzey Kutbuna uzaklığı
- E) Yerel saat farkı

30 I. Denizlerden karaların iç kısımlarına gidildikçe
II. Deniz seviyesinden yükseldikçe
III. Ektator'dan dönencelere gidildikçe azalan unsur, aşağıdakilerden hangisidir?

- A) Nem oranı
- B) Bitki örtüsü
- C) Sıcaklık
- D) Tarım ürünleri
- E) Yağış miktarı

A

31



Yukarıdaki grafik nüfusun kent gruplarına dağılışını göstermektedir.

Yalnız bu grafiğe göre aşağıdakilerden hangisine ulaşamaz?

- A) Kentli nüfusun %20,7'si nüfusu 25.000-100.000 arasındaki kentlerde yaşamaktadır.
- B) Gruplar içinde en fazla nüfusu 500.000 nüfusun üzerindeki kentler barındırmaktadır.
- C) 10.000 ve daha az nüfuslu kentler en az nüfusu barındırmaktadır.
- D) Nüfusu 100.000'den fazla olan kentler nüfusun yaklaşık %62'sini barındırmaktadır.
- E) Küçük kentlerden büyük kentlere göç olmaktadır.

32 İklim özellikleri benzer olan iki ülkede aşağıdakilerden hangisinin benzer olması beklenemez?

- A) Doğal bitki örtüsü
- B) Akarsu rejimi
- C) Konut tipi
- D) Tarım ürünü çeşidi
- E) Akarsu uzunlukları

A

33 Kanada, dünya buğday üretiminde B.D.T., A.B.D ve Hindistan'dan sonra gelmesine rağmen, dünyanın en çok buğday ihraç eden ülkesidir. Bu durum aşağıdakilerden hangisiyle açıklanabilir?

- A) İç tüketiminin az olması
- B) Geleneksel olarak buğday yerine mısır ve pirinç tüketilmesi
- C) İhracatın çok büyük bir gelir olması
- D) Buğday kalitesinin çok yüksek olması
- E) Yetiştirilen buğdayın dış pazarlarda çok aranması

34 Aşağıdakilerden hangisi termik elektrik santrali değildir?

- A) Tunçbilek
- B) Elbistan
- C) Sarayköy
- D) Keban
- E) Hamitabat

35 Aşağıdaki basınç sistemlerinin hangisi, Türkiye'de yıl boyunca nemliliği arttırıcı etkiye sahiptir?

- A) Sibirya Yüksek Basınç Alanı
- B) Basra Alçak Basınç Alanı
- C) Karadeniz Doğusu Yüksek Basınç Alanı
- D) Asor Yüksek Basınç Alanı
- E) Erzurum-Kars Yüksek Basınç Alanı

A

36 Doğu Anadolu Bölgesi'nin aşağıda verilen kentlerinden hangisi sebze-meyve tarımına daha az uygundur?

- A) Elazığ
- B) Malatya
- C) Erzincan
- D) Ağrı
- E) Iğdır

37 11 Eylül gününde 75° Doğu boylamında yerel saat 02.10 iken, aynı anda 15° Batı boylamında tarih ve saat kaçtır?

- A) 10 Eylül, saat 20.10
- B) 10 Eylül, saat 08.10
- C) 12 Eylül, saat 08.10
- D) 11 Eylül, saat 08.10
- E) 12 Eylül, saat 20.00

38 Dünya'nın Güneş'e karşı hep aynı uzaklıkta kalması ve mevsim sürelerinin birbirine eşit olması için aşağıdaki değişikliklerden hangisinin olması gerekir?

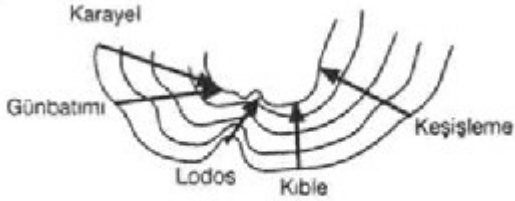
- A) Dünyanın tam küre olması
- B) Eksen eğikliğinin artması
- C) Yörüngenin daire şeklinde olması
- D) Kara- deniz dağılışının eşit olması
- E) Dünyanın dönüş hızının artması

A

39 Jeolojik devirlerin bölünüşünde aşağıdakilerden hangisi temel alınmıştır?

- A) Fosilli tortul tabakalar
- B) Kıvrımlı yapılar
- C) Başkalaşım kayaları
- D) Volkanik olaylar
- E) Kırıklı yapılar

40



Yukarıdaki izobar haritasına göre, belirtilen rüzgârlardan hangisinin şiddeti en fazladır?

- A) Karayel
- B) Günbatımı
- C) Kible
- D) Lodos
- E) Keşişleme

41 Aşağıdakilerden hangisi gel-git olayının sonuçlarından biri değildir?

- A) Gelgitin şiddetli olduğu denizlerde gemicilik ve liman faaliyetleri olumsuz yönde etkilenir.
- B) Gelgitin şiddetli olduğu denizlere dökülen akarsuların ağızlarında birikme olmaz.
- C) Kıyılarda belirli aralıklarda deniz ilerlemesi ve deniz çekilmesi görülür.
- D) Kıyılarda aşınma sonucu çeşitli şekiller oluşur.
- E) Mercan kayalarını oluşturur.

A

42 Bir ülkede endüstrinin gelişmesi için gerekli unsurlar aşağıdaki verilmiştir. Bunlardan hangisi Türkiye endüstrisini sınırlayan bir engel sayılmaz?

- A) İş gücü
- B) Hammadde kaynakları
- C) Sermaye
- D) Enerji üretimi
- E) Ulaşım

43 Göl sayısı ve göllerin yüzölçümü bakımından ilk sırayı alan bölgemiz aşağıdakilerden hangisidir?

- A) G.Doğu Anadolu
- B) Ege
- C) İç Anadolu
- D) Akdeniz
- E) Marmara

44 Yaz mevsiminde aşağıdaki boylamların hangisinin yerel saati ile Kıbrıs'ın ulusal (ortak) saati aynıdır?

- A) 75^u
- B) 30^u
- C) 60^u
- D) 45^u
- E) 90^u

45 KKTC'nin yüzölçümü kaç km² dir?

- A) 9232 km²
- B) 3242 km²
- C) 5641km²
- D) 9251 km²
- E) 3251km²

A

46 Girne dağları üzerinde bazı geçitler ve boğazlar vardır. Kayalar Dağları ile Lapta dağları arasındaki geçidin ismi nedir?

- A) Kantara
- B) Girne
- C) Mersinlik
- D) Geçitköy
- E) Boğaz

47 Aşağıdakilerden hangisi ülkemizde en fazla yetiştirilen kuru tarım ürünüdür?

- A) Buğday
- B) Bezelye
- C) Arpa
- D) Nohut
- E) Patatez

48 Kıbrıs adasında yazları sıcak ve kurak, kışları ılık ve az yağışlı bir iklim tipi görülür. Bu iklim tipinin adı nedir?

- A) Kuzey Akdeniz iklimi
- B) Akdeniz iklimi
- C) Doğu Akdeniz iklimi
- D) Batı Akdeniz iklimi
- E) Çöl iklimi

49 Kıbrıs adasının en uzun deresi hangisidir?

- A) Madendere
- B) Kanlıdere
- C) Kızıldere
- D) Yeşilirmak
- E) Yeşilyurt

A

50 Kıbrısta çok eski dönemlerden itibaren Trodos dağlarında yaşayan yabani koyun türünün adı nedir?

- A) Karatez
- B) Bufalo
- C) Kıl koyunu
- D) Muflon
- E) Çıngırık

51 İnsanoğlu, kendini zamana uydurmak, yeni değişen sosyal, kültürel, ekonomik, teknolojik vb. şartlara uyum sağlayabilmek için sürekli çalışmak zorundadır. Bu durum, "hayat boyu eğitim" veya "Beşikten mezara eğitim" gibi sözlerle ifade edilmektedir. Bu, çağdaş toplumların benimsediği bir kavramdır.

Toplumların çağdaş bir seviyeye ulaşabilmesi için aşağıdakilerden hangisini gerçekleştirmesi gerekir?

- A) Eğitim düzeyinin geliştirilmesini
- B) Laik devlet düzeninin kurulmasını
- C) Toplum içerisinde fertlerin öneminin artırılmasını
- D) Ulus kavramının öneminin vurgulanmasını
- E) Toplumun gelir seviyesinin yükseltilmesi

52 I. Meşrutiyet
II. Cumhuriyet
III. Monarşi
IV. Oligarşi
gibi yönetimlerden hangisinde egemenlik tamamen yurttaşların elindedir?

- A) I
- B) III
- C) II
- D) IV
- E) Hiçbirinde

A

53 Eski Türk Devletlerinde çıkarılan emirlerde "Hakan ve Hatun emreder" şeklinde bir ifadenin bulunması aşağıdakilerden hangisini kanıtlamaktadır?

- A) Hakan'ın halk oylaması ile belirlendiğini
- B) Kadınların erkeklerle birlikte savaştığını
- C) Kadının yönetimde etkin olduğunu
- D) Ataerkil bir aile yapısının bulunduğunu
- E) Aile reisinin kadın olduğunu

54 İnsanın insanca yaşayabilmesi için mutlak ve öncelikli haklar olarak tanımlanan temel haklardan birisi de "Konut Dokunulmazlığı"dır.

Aşağıdaki temel haklardan hangisinin konut dokunulmazlığı ile ilişkisi en fazladır?

- A) Yaşama hakkı
- B) Eğitim hakkı
- C) Özel yaşamın gizliliği
- D) Seçme ve seçilme hakkı
- E) Yerleşme hakkı

55 Yerleşme ve seyahat özgürlüğü kişinin istediği yerleşim yerine yerleşebilme, istediği yerleri gezme ve dolaşma özgürlüğüdür.

Bu özgürlük hangi şartlarda sınırlanmaz?

- A) Sosyal ve ekonomik gelişmeyi sağlamak
- B) Toplumun ortak mallarını korumak
- C) Suç işlenmesini önlemek
- D) Başkalarının haklarına saygılı olmak
- E) Olağanüstü durumlarda

A

56 Birleşmiş Milletler Teşkilatı'nın amaçları arasında;
- İnsan haklarını korumak
- Milletlerarası samimi ilişkiler kurulmasına yardımcı olmak
- İnsan haklarının uygulanması için gerekli çalışmalarda bulunmak
yer almaktadır.

Buna göre Birleşmiş Milletler Teşkilatı'nın temelinde oluşan anlayış aşağıdakilerden hangisidir?

- A) Dünya devletleri arasındaki barışı korumak
- B) Devletlerin sınır güvenliklerini sağlamak
- C) Uluslararası kültür değerleri birleştirmek
- D) Sömürgeciliğe son vermek
- E) Hiçbiri

TEST BİTTİ

CEVAPLARINIZI KONTROL EDİNİZ