

A

1 "Yazarın sınırlı kalmayıp çocuğa zengin bir dünya görüşü kazandırabilecek çeşitli işlemleri gerekir."

Bu cümledeki boşluklara aşağıdaki söz gruplarından hangisi gelirse cümle anlamlı olur?

- A) kelimelerle - duyguları
- B) mesajlarla - temaları
- C) sözcüklerle - görüşleri
- D) mesajlarla - davranışları
- E) konularla - incelikleri

2 Şüphe, bilmenin, bildiğini gelecekte bir üst düzeyde yeniden üretmenin ilk aracıdır. Şüphe olmaksızın insan düşüncesi gelişmez kalıplar ve dogmalar arasında donup kalır. Bununla birlikte "şüphe" doğru düşünmenin aracı olmaktan çıkıp da amaca dönüştüğünde yararın yerini zarar alır; şüphe sahibini de kemirmeye başlar. Kısacası şüpheye egemen olmalıyız, tutsak değil. Bu parçada asıl anlatılmak istenen aşağıdakilerden hangisidir?

- A) Şüphelerden uzak durmak gerekir
- B) Şüphe, sağlıklı düşünmenin en önemli aracıdır
- C) Şüphelerimizi dizginlemesini bilmemiz gerekir
- D) Şüphencilik insanı felakete götürür
- E) Şüphe insanların doğruları bulmasını sağlar

A

3 (I) Çatalhöyükteki kazı çalışmaları büyük bir titizlikle sürdürülüyor. (II) Küçük fırçalarla, çekiçlerle, iğneyle tarih kazılıyor bir bakıma. (III) Geçmişe ait kırıntılar pirinç gibi ayıklanıyor. (IV) Bu arada bulunan bina kalıntıları da özel bir teknikle çeşitli etkilerden ve erozyondan korunuyor. (V) Çatalhöyükteki duvar resimlerini çıkarma başlı başına bir sorun. (VI) O dönemin aydınlatılması için çok önemli olan bu resimler toprak altında bozulmadan kalmış. (VII) Ancak, gün ışığına çıktığı an, bütün renklerini bir anda yitiriyor ; solup gidiyor. Yukardaki parça iki paragrafa ayrılmak istense ikinci paragraf hangi tümceyle başlar?

- A) III
- B) IV
- C) V
- D) VI
- E) VII

4 Aşağıdaki cümlelerin hangisinde bir yazım yanlışı YAPILMAMIŞTIR?

- A) Pazar günleri'de açtık.
- B) Okulda ki başarısından ailesi de memnundu.
- C) 1999'un 18 temmuzunda doğdu.
- D) En sevdiğim şehirler arasında Ordu'da vardır.
- E) Bu konuyu daha önce de tartışmamış mıydık?

A

- 5 I. Bilim adamları evrende yeni bir galaksi buldu.
II. Kendi etti, kendi buldu.
III. Graham Bell telefonu buldu.
IV. Aradığı çiçeği saatlerce gezdikten sonra küçük bir çiçekçide bulmuştu.
V. Arkadaşlarının tavsiyesiyle gittiği filmi sıkıcı bulmuştu.
- Yukarıdaki cümlelerde "bulmak" sözcüğü kaç farklı anlamda kullanılmıştır?

- A) 3
B) 2
C) 1
D) 4
E) 5

- 6 D) Bu konuyu enine boyuna tartışalım.
II) Amcası, kendi halinde bir adamdı.
III) Gece gündüz her yerde seni düşünüyormuş.
IV) Her zaman dostluğu ön plana çıkarırdı.

Yukarıdaki numaralanmış cümlelerin hangilerindeki altı çizili sözcükler anlamca birbirine en yakındır?

- A) I ve IV
B) I ve III
C) I ve II
D) II ve III
E) III ve IV

A

- 7 Aşağıdaki cümlelerin hangisinde bir yazım yanlış vardır?

- A) Sizin çalışma metodunuzu çok beğeniyorum.
B) Bilinçli insan ne yapacağını iyi bilir.
C) Hiç kimseyi bu kadar bekletmeye hakkınız yok.
D) Önce, eğitimdeki şiddete son verilmelidir.
E) Onun bu tavırını beni oldukça rahatsız etti.

- 8 (I) Artık odamdan dışarıya çıkamıyorum. (II) Beni her şey yoruyor. (III) En ufak sestem rahatsız oluyorum. (IV) Günün aydınlığı fazla geliyor. (V) Onu evimden kovmak istiyorum.

Numaralanmış cümlelerin hangisinde yüklemde ifade edilen eylemin nedeni de bellidir?

- A) II
B) I
C) III
D) IV
E) V

- 9 Aşağıdakilerden hangisinde bir deyim açıklamasıyla birlikte VERİLMEMİŞTİR?

- A) Yaptıklarına daha sonra çok pişman oldu, başını taştan taşa vurdu.
B) Öğretmeninin beğenisini kazanmış gözüne girmişti.
C) Bu iş bizim için çok kolay, çantada keklik.
D) Patron, dosyalarını isteyince etekleri tutuştu.
E) Çocuk bir anda, kaşla göz arasında kaybolmuştu.

A

- 10 Aşağıdaki cümlelerin hangisinin yüklemde zaman anlamı yoktur?
- A) Bu konudaki kararınızı bir an önce vermelisiniz.
B) Savaşta ölen dedemin adını bana koymuşlar.
C) Artık buralarda duramayacağını anlamıştı.
D) Çocuk kimsenin sözünü dinlemiyor.
E) Baharda İzmir'e bir gezi düzenlenecek.
- 11 Aşağıdakilerden hangisinde "koşul" anlamı yoktur?
- A) İstedğin parayı vereceğiz yeter ki işi vaktinde bitir.
B) Biraz daha çalışsaydım nu olurdu sanki.
C) Sizin için izin alırım ama erken döneceksiniz.
D) İki saat sonra getirmek üzere kitabı alabilirsin.
E) Bu kitabı okuduğunuz takdirde söylediklerimi daha iyi anlayacaksınız.

A

- 12 Öğretmen dil eğitimi çalışmalarında başlangıçta ağırlığı okuma eğitimine vermelidir. Çocuğun başkasından yardım almadan kendi düzeyindeki bir metni okuyabilme yeteneğine ulaştırılması 2 ay ile 2 yıl arasındaki bir eğitim sürecine yayılmaktadır. Bazı araştırmalara göre çocuk iki ay içinde okuma disiplinine kavuşturulmaktadır. Çocuğun düzenli bir okuma alışkanlığı kazanması ise ancak iki yıl gibi bir süre içinde gerçekleşmektedir. Kısacası okuma bir anda kazanılan ve biten bir beceri değildir.
- Yukarıdaki paragrafta aşağıdaki anlatım biçimlerinden hangisi ağır basmaktadır?
- A) Betimleme
B) Öyküleme
C) Açıklama
D) Tartışma
E) Örneklendirme
- 13 Aşağıdaki dizelerin (cümlelerin) hangisinde "yalnızlık" anlamı vardır?
- A) Şimdi yağın kar değil, ruhumdur kar yerine.
B) Kendi saadetini mendilini işler gibi kendi elinle işle.
C) Duydum gemi yüzü görmeyen bir limanın hüznünü.
D) Ruhum dalga kahrından usanmış dertli kaya...
E) Esiyor tane tane yine beyaz bir rüzgar.

A

14 Aşağıdakilerden hangisinde bir varlığa ait nitelik benzetme yoluyla başka bir varlık için kullanılmıştır?

- A) Ayakkabısının burnu iyice yıpranmıştı.
- B) İstasyonda bekleyen insanlar uzaktan gelen sesle irkildiler.
- C) Kitaplarını masanın üstüne bırakıp çıktı.
- D) Bahçeden iri iri elmalar topladık.
- E) Onu çok özlediğini belli ediyordu.

15 Aşağıdaki cümlelerden hangisinde bir anlatım bozukluğu vardır?

- A) Siyasetçiler her zaman toplumla iç içe olmalıdır.
- B) Köyde geçirdiğimiz ilk günde traktörle tarlaları gezmiştik.
- C) Güzellikler göz açıp kapayıncaya kadar sona eriyor sanki.
- D) Bu tür ameliyatlarda ölüm şansı yüksektir.
- E) Usta bir yazar, kelimelerin ilk ve temel anlamlarıyla yetinmez.

16 İstanbul'u bir günde gezmek () bütün yönleriyle tanımak olanağı yoktur () ancak () zaman zaman yapacağımız kaçamaklarla kentin bambaşka özelliklerine tanık olabilirsiniz.

Yukarıdaki paragrafta ayraçlara () aşağıdaki noktalama imlerinden hangisi sırayla getirilmelidir?

- A) (:) (;) (,)
- B) (,) (,) (;)
- C) (;) (:) (,)
- D) (;) (,) (,)
- E) (,) (;) (,)

A

17 Bir deponun $\frac{1}{5}$ i su doludur. Depoya 22 litre su ilave edilince deponun $\frac{3}{4}$ ü doluyor. Buna göre, deponun tamamı kaç litredir?

- A) 40
- B) 36
- C) 28
- D) 32
- E) 20

18 116 yataklı bir otelin, bir kısmı 3 yataklı, bir kısmı 5 yataklı olmak üzere 28 tane odası vardır. Buna göre, 5 yataklı kaç oda vardır?

- A) 16
- B) 14
- C) 12
- D) 10
- E) 18

19 Bir otomobil A şehrinden B şehrine 12 saatte gidebilmektedir. Eğer saatteki hızını 30 km artırsaydı 8 saatte gidebilecekti. Buna göre, A ile B şehirleri arası kaç km dir?

- A) 600
- B) 720
- C) 540
- D) 680
- E) 740

A

20 $x + 1$ ile $2y - 1$ sayıları orantılıdır.
 $x = 9$ iken $y = 3$ ise, $y = -2$ iken x kaçtır?

- A) 3
- B) -2
- C) -6
- D) -11
- E) 7

21 a, b, c pozitif tam sayılardır.
 $a.b = 37$
 $b.c = 23$
olduğuna göre, $a+b+c$ toplamı kaçtır?

- A) 82
- B) 74
- C) 90
- D) 96
- E) 61

22 Bir satıcı aldığı malın yarısını %25 zararla kalanını %45 karla satıyor. Buna göre, satıcının elde ettiği kar oranı yüzde kaçtır?

- A) 15
- B) 10
- C) 25
- D) 20
- E) 30

A

23 Bir otobüsteki yolcuların $\frac{5}{7}$ si erkektir. Bu otobüsten 6 bayan inince erkeklerin sayısı, otobüsteki toplam yolcu sayısının $\frac{4}{5}$ i oluyor. Bu otobüste kaç tane erkek yolcu vardır?

- A) 48
- B) 36
- C) 40
- D) 56
- E) 64

24 Bir araç 450 km lik bir yolu 50 km/sa hızla gidip, 75 km/sa hızla geri dönmüştür. Buna göre aracın yolculuğu kaç saat sürmüştür?

- A) 15
- B) 14
- C) 12
- D) 9
- E) 17

25 Bir baba ile oğlunun yaşları farkı 20'dir. 7 yıl sonra yaşları toplamı 46 olduğuna göre, babanın yaşı kaçtır?

- A) 18
- B) 26
- C) 22
- D) 6
- E) 33

A

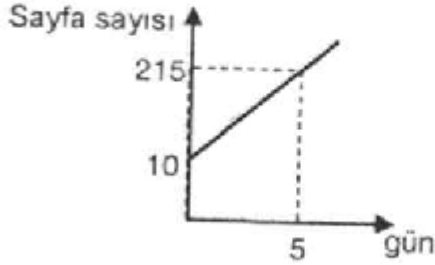
26 a, b, c birer rakam ve $a.b=c$ olduğuna göre, bu koşula uyan kaç tane abc tek sayısı vardır?

- A) 7
- B) 9
- C) 10
- D) 8
- E) 6

27 Bir satıcı elindeki malları etiket fiyatının %10 eksikliğine almış ve etiket fiyatının %35 fazlasına satmıştır. Buna göre, satıcının bu satıştan elde ettiği kar yüzde kaçtır?

- A) 40
- B) 35
- C) 30
- D) 45
- E) 50

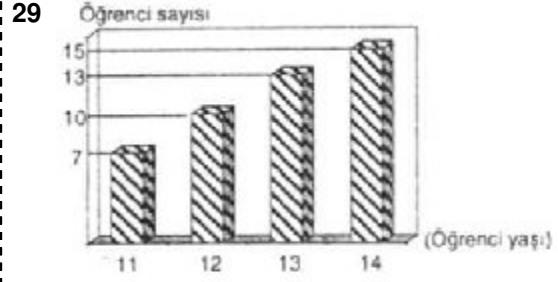
28 Bir öğrencinin kaç günde ne kadar sayfa kitap okuduğuna dair grafik aşağıda verilmiştir.



Bu öğrenci 25.günde kaç sayfa kitap okumuştur?

- A) 1020
- B) 1015
- C) 1030
- D) 1025
- E) 1035

A



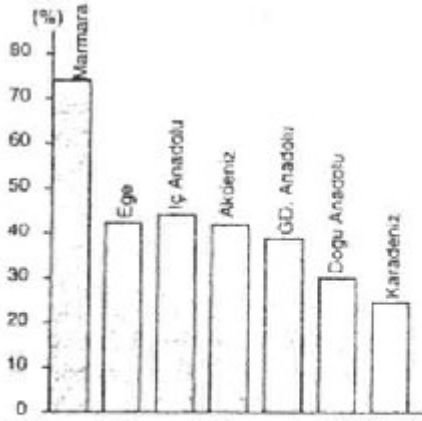
Yukarıdaki grafik, bir sınıftaki öğrenci yaşlarını göstermektedir.

Buna göre, sınıfın % kaç 13 yaşındadır?

- A) 33.1
- B) 33
- C) 33.2
- D) 33.3
- E) 33.4

A

30



Yukarıdaki grafikte coğrafi bölgelere göre şehirleşme oranları gösterilmiştir. Buna göre aşağıdakilerden hangisi doğrudur?

- A) Şehirleşme oranı en az olan bölge iç bölgelerden biri dir.
- B) İç Anadolu Bölgesi'nin şehirleşme oranı Karadeniz Bölgesi'nin şehirleşme oranından daha azdır.
- C) Kıyı bölgelerinin tamamında şehirleşme oranı %50'nin üstündedir.
- D) Şehirleşme oranı bölgelerin yüzölçümleriyle doğru orantılıdır.
- E) Marmara Bölgesi'nde şehirleşme oranı %70'den fazladır.

A

31

Tabloda, 1997 yılında, Türkiye'deki kesilen hayvan sayısı ve et üretimi gösterilmiştir.

Hayvan cinsi	Kesilen Hayvan(x1000)	Et üretimi(ton)
Koyun	2978	65361
Sığır	1207	190014
Kıl Keçisi	897	15142
Tiftik Keçisi	25	450

Aşağıdakilerden hangisi, bu tablodan çıkarılabilecek bir sonuç değildir?

- A) Her 1000 tiftik keşisinden ortalama 18 ton et elde edilmiştir.
- B) Türkiye sığır etini ihraç etmektedir.
- C) En çok kesilen hayvan koyundur.
- D) En yüksek üretim, sığırdan sağlanmıştır.
- E) En verimli cins sığırdır

A

32



Yukarıdaki grafik, bir şehrin belediyesinin ödeneklerini göstermektedir. Bu belediyenin bütçesi 12 milyar olup, temizlik için ayrılan ödenek 30°lik merkez açıya karşılık gelmektedir. Bu ödeneğin 90°lik merkez açıya karşılık gelmesi için **ödeneğin kaç milyar artırılması gerekir?**

- A) 4
- B) 3
- C) 1
- D) 2
- E) 5

33 **Sally : That's our new neighbour over there. He's the man next door.**

Linda:

Sally : Well, I know he is married and his wife works in a factory in the town. And I know they've got three children.

- A) Oh, do you know where his wife works.
- B) Oh, do you know about his children.
- C) Oh, is that the man who married a very beautiful woman.
- D) Oh, do you know where he works.
- E) Oh, do you know anything about him.

A

34 **Luke: Will you invite Gerry to your birthday party?**

Bob : No, I won't. I don't like him.

Luke:

Bob : You're right. I'll ask him.

- A) I think he doesn't like parties.
- B) He behaved so rude at the last party, do you know?
- C) I know you don't. But he has been having such a hard time recently. It would be good for him.
- D) If you came, I would go.
- E) Yes, he is also very aggressive.

35 **A : I hear your grandparents have moved to a new flat.**

B :

A : I'm so pleased. I know they used to get tired climbing up to the fourth floor.

- A) Yes. It's a nice flat on the tenth floor. I like it very much. But the building doesn't have a lift.
- B) That's right. They have found one on the ground floor.
- C) That's right. It's a nice flat. The only trouble is, they have to climb up the stairs.
- D) Not yet. We have been looking for a suitable house for them on the first floor.
- E) Yes, but they have already regretted it.

A

- 36 **A : I hear Andrew's in hospital.**
B :
A : Then I'll join you.
- A) Are you sure ? There was nothing wrong with him yesterday.
B) Yes, he has been in hospital since the accident.
C) Really? What's wrong with him ?
D) Not any more. He 's back at home and I'm on my way to see him.
E) He got injured playing football.

- 37 **Son: Mum. Can I make some coffee for my friends?**
Mum: Yes, of course.
Son:
Mum: I can't believe that you've lived here for sixteen years and still don't know where things are kept.
- A) There isn't enough milk.
B) Should I use tap or bottled water?
C) Can I have some biscuits as well.
D) Where are the cups?
E) There isn't enough sugar.

- 38 **Pat : When does the concert start?**
Mary: At 8.30
Pat :
Mary: Yes. It says on the ticket.
- A) We'd better hurry then.
B) Are you sure?
C) It doesn't start at 8 o'clock.
D) Who says so?
E) Are we going to be late.

A

- 39 **Mark: How long have you been working in this office?**
Ruth: About two and a half months.
Mark:
Ruth: Well, yes at least sometimes.
- A) Why don't come and work for me
B) When do you stop working
C) Why don't you change your job
D) Do you enjoy your job
E) What do you want to do in the future

- 40 **Bean: When you are in Rome, try to see Sophia.**
Clay:
Bean: No, but I know where she lives.
Clay: Good then give me her address.
- A) Have you heard from her lately?
B) Do you have her telephone number?
C) Does she know when you are coming?
D) Do you know her address?
E) What does she do?

- 41 **Aşağıdakilerden hangisi power point parogramında slayt gösterisini başlatan kısa yol tuşudur?**
- A) F5
B) F3
C) F4
D) F2
E) F6

A

42 Aşağıdakilerden hangisi power point programında sunuya ses ve görsel iletişim katabilmek için uygulanması gereken komuttur?

- A) Eylem düğmeleri
- B) Özel animasyon
- C) Slayt sıralayıcısı
- D) Çevrimiçi yayın
- E) Özel yapıştır

43 Aşağıdakilerden hangisi power point programında görsel tasarımı yeni baştan yapmadan slaytların metin içeriklerini odaklanabilmeniz için kullanılan bir araçtır?

- A) Baş sunu
- B) Akıllı içerik sihirbazı
- C) Yeni slayt iletişim kutusu
- D) Varolan tasarım şablonları
- E) Başlangıç iletişim kutusu

44 Aşağıdakilerden hangisi Powerpoint programında önceden tasarlanmış şablonları hazırlamayı planladığımız sunu için uygulamakla işinizi kolaylaştırmayı amaçlar?

- A) Varolan tasarım şablonları
- B) Yeni slayt iletişim kutusu
- C) Akıllı içerik sihirbazı
- D) Başlangıç iletişim kutusu
- E) Boş sunu

A

45 Aşağıdakilerden hangisi power point programında önceden tasarlanmış şablonları hazırlamayı planladığımız sunu için uygulamakta işinizi kolaylaştırmayı amaçlar?

- A) Akıllı içerik sihirbazı
- B) Başlangıç iletişim kutusu
- C) Yeni slayt iletişim kutusu
- D) Vardan tasarım şablonlarını
- E) Baş Sunu

46 Aşağıdakilerden hangisi disketin özelliklerinden değildir?

- A) Hatalı kullanımdan dolayı kolay bozulabilmesi
- B) Uzun yıllar saklamaya elverişli olmaması
- C) Nem, güneş ve tozdan çabuk etkilenmesi
- D) Oldukça az depolama alanına sahip olması
- E) Uzun yıllar kullanım özelliğine sahip olması

47 Aşağıdakilerden hangisi sunu tasarlama ve sunma programıdır?

- A) Coreldriwe
- B) Excel
- C) Word
- D) Powerpoint
- E) Freehand

A

48 Aşağıdakilerden hangisi Powerpoint programında sunuya ses ve görsel iletişim katabilmek için uygulanması gereken komuttur?

- A) Eylem düğmeleri
- B) Özel animasyon
- C) Çevirimiçi yayın
- D) Slayt sıralayıcısı
- E) Özel yapıştır

49 Aşağıdakilerden hangisi Kamu Kurumu niteliğinde meslek kuruluşlarından değildir?

- A) BRT
- B) TAK
- C) Polis Örgütü
- D) Vakıflar Örgütü
- E) Yüksek Yayın Kurulu

50 Cumhuriyet Güvenlik Kurulunda aşağıda belirtilen kişilerden hangisi bulunamaz?

- A) Silahlı Kuvvetler Komutanı
- B) Meclis Başkanı
- C) Cumhurbaşkanı
- D) Başbakan
- E) Lefkoşa Emniyet Müdürü

A

51 Yasa Gücünde Kararname ile ilgili yanlış bir ifade vardır. Hangisi yanlıştır?

- A) Yasa Gücünde Kararnameler ile yeni mali yükümlülükler getirilemez
- B) Yasa Gücünde Kararname, Resmi Gazete'de yayımlanarak yürürlüğe girer ve aynı gün gerekçesi ile birlikte Cumhuriyet Meclisine sunulur
- C) Ekonomik konularda ivedilik varsa Cumhuriyet Meclisi Yasa Gücünde Kararname çıkarabilir
- D) Yasa Gücünde Kararnamelerle kişisel ve siyasal hak ve özgürlükler kısıtlanamaz
- E) Meclise sunulan Yasa Gücünde Kararname Mecliste öncelik ve ivedilikle görüşülüp 90 gün içinde karara bağlanır

52 Cumhurbaşkanı'nın görev yetki ve sorumlulukları ile ilgili aşağıdakilerden hangisi yanlıştır?

- A) Cumhuriyet Meclisi adına Cumhuriyet Silahlı Kuvvetleri Başkomutanlığını temsil eder
- B) Bu Anayasa ve yasalarla kendisine verilen diğer yetkileri kullanır ve görevlerini tarafsız olarak yerine getirir
- C) Cumhurbaşkanı Devletin başıdır. Bu sıfatla Devletin ve toplumun birliğini ve bütünlüğünü temsil eder
- D) Cumhurbaşkanı, Anayasaya saygıyı, kamu işlerinin kesintisiz ve düzenle yürütülmesini ve Devletin devamlılığını sağlar
- E) Cumhurbaşkanı, görevleri ile ilgili işlemlerden sorumludur

A

- 53 Aşağıdakilerden hangisi KKTC Meclisi'nce usulüne uygun olarak onaylanıp yürürlüğe konarak yasa niteliği kazanan hukuki kaynaklardır?
- A) Yasa gücünde kararname
B) Yönetmelikler
C) Tüzükler
D) Genelgeler
E) Sayıştay raporları
- 54 Aşağıdaki kavramlardan hangisi öğretmenler yasasının tefsirinde açıkça yer almamaktadır?
- A) Müdür Muavini
B) Sınıf öğretmeni
C) Sorumlu öğretmen
D) Dönem öğretmeni
E) Köy Kadın Kursu öğretmeni
- 55 Aşağıdakilerden hangisi öğretmen olarak ilk kez göreve atanacaklarda aranan özelliklerden değildir?
- A) Erkek adayların yurt ödevi yükümlülüğünü yerine getirmiş olmak
B) Kamu haklarından yasaklı bulunmamak
C) Kuzey Kıbrıs Türk Cumhuriyeti yurttaşı olmak
D) Onsekiz yaşını bitirmiş olmak
E) Kamu görevinden emekli maaşı çekmiş olmak

A

- 56 Aşağıdaki seçeneklerden hangisi bir öğretmenin yerine getirmesi gereken zorunluluklardan biri değildir?
- A) Üstlerinin verdiği emirleri doğru ve iyi bir biçimde yerine getirmek
B) Yurtdışına gitmesi gereken her durumda Bakanlığın izin ve onayını almak
C) Kuzey Kıbrıs Türk Cumhuriyeti'nin Anayasa ve yasalarına uymak
D) Eğitim ve öğretim yılı boyunca izinsiz ve özürsüz görevinden ayrılmamak
E) Konusu suç teşkil eden bir emri, amirinin ısrarları sonucu yerine getirmek
- 57 Eğitim ve öğretim süresi, bu sürede yapılacak etkinliklerin belirlenmesi ve öğretmenin bu etkinlikleri yürütmesi ile ilgili olarak aşağıdakilerden hangisi yanlıştır?
- A) Bakanlık, Çalışma Takviminde yer almayan bir etkinlik için genelge hazırlamadan önce yetkili sendikaya danışmak zorundadır
B) Bakanlık, yetkili sendika ile işbirliği yaparak "Yıllık Çalışma Takvimi" hazırlar
C) Bakanlık, yıl içinde yapılacak eğitim etkinliklerini genelgelerle duyurur. Genelgeler bağlayıcıdır
D) Okulun açılış - kapanış tarihleri ve yaz tatili süresi Bakanlık - yetkili sendika işbirliğiyle belirlenir.
E) Öğretmenin tatil izni 42 süreklî iş günüdür. Bunun dışında kurs, seminer v.b. çalışmalar için öğretmeni göreve çağırabilir

A

58 Aşağıdakilerden hangisi öğretmenlerin görevlerinden değildir?

- A) Öğrencilerin zihnen, ruhen ve bedenen gelişmelerini sağlamak
- B) Eğitim ve öğretim etkinlikleri ile diğer okul etkinliklerini düzenlemek ve ders programlarının uygulanmasını sağlamak
- C) Eğitim ve öğretim etkinlikleri ile bakanlıkca verilecek diğer işleri yapmak
- D) Öğrencileri iyi bir yurttaş ve iyi bir insan olarak yetiştirmek
- E) Öğrencilere, yerel koşullara ve iş olanaklarına uyabilmelerini sağlayacak kuramsal ve uygulamalı bilgiler vermek

59 Öğretmenler Yasasının 80. maddesinin 1. fıkrasında yeralan öğretmenlere ara tatili ile yaz tatili dışında, zaruret halinde, bir ders yılı için onbeş güne kadar izin verilebilir. Bu izin ayrı ayrı dönemde olması halinde beş güne kadar olanı müdür veya başöğretmen tarafından verilebilir. Bu izin gerekli hallerde ödeneksiz olarak bir aya kadar uzatabilir. Bahsedilen izin türü aşağıdakilerden hangisidir?

- A) Hastalık izni
- B) Hamilelik doğum ve emzirme izni
- C) Şubat tatili izni
- D) Ödeneksiz izin ve kısmi ödenekli burs izinleri
- E) Mazaret izni

A

60 Sorumlu öğretmenlik için aşağıdaki seçeneklerden hangisi doğru değildir?

- A) Yasanın öngördüğü tedrisat saatlerine uymak zorunluluğu yoktur
- B) Başka durum gerektirmedikçe köyde varsa, köy kadın kursundan da sorumludur
- C) Bakanlığın mevzuat ve yönergelerinin uygulanmasından ve gerekli yarışmaları yapmaktan sorumludur
- D) Birden fazla öğretmenli okullarda en kıdemli olanıdır
- E) Sorumluluk yaptığı sürede ek sorumluluk ödeneği alır

61 Aşağıdakilerden hangisi İlköğretimin amaç ve görevlerinden birisi değildir?

- A) Çocukları ilgi ve yetenekleri yönünde yetiştirerek onları toplumsal yaşama ve üst öğrenime hazırlamak
- B) Çocuklara iyi ve yararlı birer yurttaş olarak yetiştirebilmeleri için gerekli temel bilgi, beceri, davranış ve alışkanlıkları kazandırmak
- C) Çocukların estetik duygularını geliştirmek, onlara doğruyu güzeli ve iyiyi görebilme yeteneği kazandırmak işbirliği, yardımlaşma, arkadaşlık, insan sevgisi gibi üstün duyguları yaratmak
- D) Öğrencilere, Atatürk ilke ve devrimleri ile Atatürk milliyetçiliğini ve toplumsal mücadelemizin kökeninde yatan gerçekleri öğretmek
- E) Tüm öğrencilere ortaöğretim düzeyinde asgari ortak bir genel kültür vermek

A

62 Öğretmenler Yasası ve bu yasaya dayanılarak tüzük ve yönetmeliklere göre yürürlükte bulunan kuralların kendileri hakkında aynen uygulanmasını istemeleri öğretmenlerin hangi hakkı ile açıklanabilmektedir?

- A) Şikayet etme ve dava açma hakkı
- B) Vekalet ayrılığı alma hakkı
- C) Uygulamayı isteme hakkı
- D) Yayın hakkı
- E) Burs ve kurs ödeneği hakkı

63 Aşağıdaki seçeneklerden hangisi emeklilik işlemleri yapılırken hizmet yıllarına eklenmez?

- A) Ödenekli yıllık sendikal izinler
- B) Yasalar çerçevesinde alınan ödeneksiz izin süreleri
- C) Yasalar çerçevesinde kurs veya öğretim amacıyla izinli kılınan, yükümlülüğünü tamamlayarak geri dönen öğretmenlerin izinli olduğu süreler
- D) Uzun süreli sağlık raporu gerektiren hastalık izinleri
- E) Erkek öğretmenlerin mücahitlik hizmet süreleri

A

64 Öğretmen Kamu Hizmeti Komisyonu tarafından atandıktan sonra aşağıdaki hizmet ve çalışmaların hangisinde barem içi artış almaz?

- A) Mükellef askerlik hizmetini tamamladığını belgelediği zaman
- B) Bulunduğu baremde 1 yıl süreyle, olumsuz sicil almamak koşulu ile çalıştığı zaman
- C) Dört yıllık bir üniversitenin önlisans (2 yıllık) programını tamamladığını belgelediği zaman
- D) "Kıdemli öğretmenin" ünvanını kazandığı zaman
- E) Yüksek lisans programını tamamladığını belgelediği zaman

65 Annenin çocuğuna göstereceği ilgi ve sevgiyle çözülecek çatışma durumu aşağıdakilerden hangisidir?

- A) Özerkliğe karşı utanma ve kuşku
- B) Kimlik kazanmaya karşı rol karmaşası
- C) Girişimciliğe karşı suçluluk duyma
- D) Temel güvenceye karşı güvensizlik
- E) Başarıya karşı aşağılık duygusu

66 Aşağıdakilerden hangisi Ahlaki gelişimin Özerk Döneminde GÖRÜLMEZ?

- A) Kuralların uygulanmadan önce niyetlerin incelenmesi
- B) Kurallara uylmadığında ceza verilmesi
- C) Kurallar içinde bulunulan duruma göre uygulanması
- D) Kuralların kesin ve değişmezliği
- E) Kurallar ve ahlak ilkelerinin değişmeye başlaması

A

67 Küçük çocuklarının zarar görmelerini engellemek amacıyla aşırı koruyucu davranan ebeveynler ne tür bir çatışmaya neden olabilirler?

- A) Özerkliğe karşı utanma ve kuşku
- B) Kimlik kazanmaya karşı rol karmaşası
- C) Girişimciliğe karşı suçluluk duyma
- D) Temel güvene karşı güvensizlik
- E) Başarıya karşı aşağılık duygusu

68 Bireyin, yeni karşılaştığı durum, nesne ve olayları kendisinde önceden varolan zihinsel yapının içine yerleştirmesi işlemine ne denir?

- A) Hazırbulunmuşluk
- B) Şema
- C) Özümleme
- D) Adaptasyon
- E) Dengeleme

69 Aşağıdakilerden hangisi sosyal zeka ile öğrenen öğrenci özelliklerinden DEĞİLDİR?

- A) Özgürlüğe düşkün olma eğilimi
- B) İkna etme yeteneği
- C) Etkin dinleme becerisi
- D) İşbirliği, paylaşma ve öğrenme isteği
- E) İnsanlarda empati kurma yeteneği

A

70 Aşağıdakilerden hangisi kavramların özelliklerinden DEĞİLDİR?

- A) Kavramlar örnekleri ve örnek olmayanları ile öğrenilirler
- B) Kavramların kritik ve kritik olmayan özellikleri vardır
- C) Kavramların günlük yaşamda tam karşılığı vardır
- D) Kavramların isimleri ve tanımları vardır
- E) Kavramlar sosyal çevreden etkilenir

71 Arkadaşının ödev yapmadığında cezalandırıldığını gören öğrenci ödevlerini yapmamanın istenmeyen davranış olduğunu öğrenir. Bu tür bir öğrenme aşağıdakilerden hangisidir?

- A) Klasik koşullanma yoluyla öğrenme
- B) Edimsel koşullanma yoluyla öğrenme
- C) Koşullanma yoluyla öğrenme
- D) Modelleme yoluyla öğrenme
- E) Problem çözerek öğrenme

72 Aşağıdakilerden hangisi iş yerlerindeki sosyalleşmeyi etkileyen olumsuz etmenler arasında sayılmaz?

- A) İş yerinin kararlara katılımı engelleyici bir hiyerarşik yapı içinde olması
- B) İş yerinde çalışanların yükselme kaygısıyla birbiriyle rekabete girmesi
- C) İş yerinde çalışanların farklı sosyo ekonomik geçmişe sahip olmaları
- D) İş yeri yönetiminin az harcamayla yüksek verim elde etme çabası
- E) İş yeri yönetiminin çalışanlarından gerçek dışı verim elde etmeyi hedeflemesi

A

73 Aşağıdakilerden hangisi öğrenme kuramlarının en önemli işlevidir?

- A) Öğrenme arařtırmalarını yorumlamak
- B) Öğrenmeyi etkileyen etmenleri ortaya çıkarmak
- C) Öğrenmenin nasıl gerekleřtiđini tahmin etmek
- D) Öğrenme arařtırmalarını yönlendirmek
- E) Öğrenme stratejileri geliřtirmek

74 Aşağıdakilerden hangisi öğrenmenin özellikleri açısından yanlış bir ifadedir?

- A) Davranış deđişikliđinin yaşantı sonucunda gerekleşmiş olması
- B) Davranış deđişikliliđinin gözlenebilir olması
- C) Davranış deđişikliđinin sadece büyüme sonucunda oluşması
- D) Davranış deđişikliđinin az ya da çok kalıcı olması
- E) Davranış deđişikliđinin organizmanın geçici durumlarıyla ilgili olması

75 Voleybolda servis atma becerisini puanlama cetveli kullanarak puanlayan üç öğretmenin yaptığı puanlamanın güvenilirliđini hesaplamak için öğretmen puanları arasında hangi istatistiksel işlem yapılır?

- A) Yüzde
- B) Standart sapma
- C) Korelasyon
- D) Aritmetik ortalama
- E) Regresyon

A

76 Bir çoktan seçmeli test maddesinin anahtara göre yanlış olan seçeneđine ne ad verilir?

- A) Seçenek
- B) Şık
- C) Madde formu
- D) Çeldirici
- E) Anahtarlanmış cevap

77 Aşağıdakilerden hangisi eşit aralıklı ölçeğin özelliklerinden biri DEĞİLDİR?

- A) Ölçme sonuçlarına toplama ve çıkarma işlemleri uygulanabilir.
- B) Puanlar arasında oransal işlemler yapılabilir.
- C) Sıfır deđeri yapaydır.
- D) Birimleri eşittir.
- E) Sıralama ölçeđine indirgenebilir.

78 Aşağıdaki işlemlerden hangisi bir temel ölçme işlemidir?

- A) Bir dairenin apını ölçerek alanını bulmak
- B) Bir çocuđun çizdiđi resme bakarak zekasını saptamak
- C) Bir sayfa daktilo yazısındaki hataları saymak
- D) Cıvalı termometre ile sıcaklık ölçmek
- E) Elektronik terazi ile yiyecek tartmak

A

79 Yazılı yoklamalar puanlanırken birden fazla puanlayıcı kullanmanın en önemli gerekçesi nedir?

- A) Aracın kullanılabilirliğini artırmak
- B) Puanlayıcı yanlılığını önlemek
- C) Puanlamayı hızlandırmak
- D) Puanlamayı kolaylaştırmak
- E) Anahtar hatalarını bulmak

80 Aşağıdakilerden hangisi anlatma yönteminin özelliklerinden biri DEĞİLDİR?

- A) Temel bilgilere sahip ve homojen gruplarda uygulanır.
- B) Özetleme yaparken kullanılır.
- C) Öğretmen merkezlidir.
- D) Not tutma becerilerini geliştirir.
- E) Bilgi düzeyindeki davranışların kazandırılmasında kullanılır.

81 Aşağıdakilerden hangisi bir bireysel öğretim tekniğidir?

- A) Rol yapma
- B) Mikro öğretim
- C) Benzetim
- D) Bilgisayar destekli öğretim
- E) Sergi

A

82 Öğrenme-öğretme sürecinde öğretmenin başarıya odaklanan kişilik özelliği sergilemesi aşağıdakilerin hangisini DOĞRUDAN etkiler?

- A) Etkili iletişim açığı çıkar
- B) Disiplin sağlanır
- C) Katılım artar
- D) Güdülenme düzeyi yükselir
- E) Dönüt verme sıklığı artar

83 Öğretim materyallerinin seçiminde ya da hazırlanmasında dikkate alınacak öncelikli ilke aşağıdakilerden hangisidir?

- A) Hedeflere uygunluk
- B) Basit, sade ve anlaşılabilirlik
- C) Dayanıklılık
- D) Geliştirilebilirlik
- E) Ekonomiklik

84 Öğretme tekniklerini yönlendiren temel öğe aşağıdakilerden hangisidir?

- A) Eğitimin hedefleri
- B) Yasalar
- C) Okul programları
- D) Öğretmen
- E) Öğretme/öğrenme stratejileri

A

85 Aşağıdakilerden hangisi rol yapma tekniğinin yararlı yönlerinden biri DEĞİLDİR?

- A) Davranışın kalıcılığını artırır.
- B) Beden dillerinin gelişimini sağlar.
- C) Öğrenciye hiç görev düşmez.
- D) Bedensel gelişimlerini sağlar.
- E) Empati kurma becerilerini geliştirir.

86 Aşağıdakilerden hangisi eğitim kavramını diğerlerinden daha iyi tanımlar?

- A) Öğrenmeyi sağlama
- B) Davranış oluşturma-değiştirme
- C) Bilgi kazandırma
- D) Kişiyi meslek sahibi yapma
- E) Okuldaki öğrenme etkinlikleri

87 Zamanı etkili kullanma yeterliği ile ilgili en doğru ifade aşağıdakilerden hangisidir?

- A) Zaman yönetimi, günümüzde tüm insanları sorunudur
- B) Zamanı etkili kullanma yeterliği öğrenilebilir
- C) İnsanların eğitim düzeyi yükseldikçe zamanı etkili kullanma yeterliği artar
- D) Zamanı etkili kullanabilmek için önce biraz zaman harcanmalıdır
- E) Zaman tüm insanların eşit olarak sahip olduğu bir kaynaktır

A

88 "Çarpma işleminde görülen en yaygın hatalar nelerdir?" Sorusunu aydınlatmak için uygulanması gereken en uygun bilgi toplama tekniği aşağıdakilerden hangisidir?

- A) Görüşme
- B) İnceleme
- C) Sınav
- D) Gözlem
- E) Hiçbiri

89 Sorun merkezli tasarımlar içerisinde yer alan konuların toplumsal sorunlar çerçevesinde ele alındığı, genel bir eğitim anlayışına dayanan işbirliğine dayalı öğrenme modelini temel alan program tasarımı aşağıdakilerden hangisidir?

- A) Toplumsal sorunlar ve yeniden kurmacılık tasarımı
- B) Çekirdek tasarımı
- C) Hümanistik yaklaşım
- D) Yaşam şartları tasarımı
- E) Geniş alan program tasarımı

A

90 Aşağıdakilerden hangisinde eğitim programları ile öğretim arasındaki fark doğru olarak ifade edilmiştir?

- A) Eğitim programı bir programlama süreci, öğretim yöntemidir
- B) Eğitim programı bütün alanları kapsar, öğretim belirli bir alanla ilgilidir
- C) Eğitim programında yapılacak uygulamalar, öğretimde hangi içeriğin verileceği belirlenir
- D) Eğitim programında ne ve nasıl sorularına, öğretimde ise ne sorusuna cevap aranır
- E) Eğitim programı bir planlama süreci, öğretim uygulama biçimidir

91 Aşağıdakilerden hangisi eğitimin toplumsal işlevi değildir?

- A) Bireylere milli değerleri kazandırarak millet bilinci oluşturmayı sağlamak
- B) Bireyin kendi yaşantıları yoluyla edindiği bilgi, beceri ve yetenekleri diğer nesillere aktarmasını sağlamak
- C) Bireyler arasındaki görüş ve duyuş farklılıklarını hoşgörü ile karşılaşmasını sağlamak
- D) İşbirliği duygusuna sahip, hak ve sorumluluklarının sınırını iyi çizen ve ona göre davranan bireyler yetiştirmesini sağlamak
- E) Vatandaşlık bilinci geliştirilerek ortak bir kültür oluşturmaya çalışmak

A

92 Aşağıdakilerden hangisi ihtiyaç değerlendirmede yararlanılan bir teknik değildir?

- A) Meslek analizi
- B) Görüşme
- C) Karşılıklı konuşma
- D) Gözlem
- E) Anket

93 Aşağıdakilerden hangisi doğru ve gerçekçi bir rehberlik anlayışı geliştirmiş olmayı ifade etmektedir?

- A) Rehberlikle ilgili olumlu tutumlar kazanmış olmak
- B) Rehberliğin ilke ve kavramlarını bilmek
- C) Öğrencilerin problemleriyle ilgilenmeye istekli olmak
- D) Etkili iletişim becerileri geliştirmiş olmak
- E) Rehberliğin tekniklerinde yeterli olmak

94 Aşağıdakilerden hangisi rehberliğin nihai hedefini oluşturur?

- A) Problem çözme
- B) Kendini tanıma
- C) Seçim yapma
- D) Uyum sağlama
- E) Kendini gerçekleştirme

A

95 Aşağıdakilerden hangisi kişisel rehberlik yardımına ihtiyacı olan bir öğrenci sorunu değildir?

- A) Kişiler arası ilişkilerde başarısız olmak
- B) Etkili bir çalışma planını hayata geçirebilmede zorlanmak
- C) Davranış bozuklukları geliştirmiş olmak
- D) Düşük benlik kavramına sahip olmak
- E) Karşı cinsle sağlıklı ilişkiler geliştirememiş olmak

96 İhtiyaç duyduğu anda bireyin her yaşta rehberlik yardım alabileceğini vurgulayan rehberlik modeli hangisidir?

- A) Gelişimsel model
- B) Yöneltilici model
- C) Klinik model
- D) Uyum sağlayıcı model
- E) İnsancı model

TEST BİTTİ

CEVAPLARINIZI KONTROL EDİNİZ