

A

1 **Türkiye'de aşağıdaki endüstri kuruluşlarından hangisi diğerlerine göre daha yaygındır?**

- A) Sigara
- B) Cam
- C) Kağıt
- D) Çimento
- E) Seramik

2 **Türkiyede nüfus ve nüfusun coğrafi dağılışı ile ilgili aşağıda verilen bilgilerden hangisi YANLIŞTIR?**

- A) Aritmetik nüfus yoğunluğunun en az olduğu bölge Güney Doğu Anadolu'dur.
- B) Tarımsal nüfus yoğunluğu İç Anadolu bölgesinde en azdır.
- C) En az nüfus barındıran bölge Doğu Anadolu'dur.
- D) Kıyı bölgelerinde nüfus iç kesimlerden daha fazladır.
- E) Nüfusun dağılışında iş imkanlarının önemli bir etkisi bulunur.

3 **Aşağıdaki niteliklerden hangisini gösteren bölgelerde bağıl (nisbi) nem en yüksek düzeye ulaşır?**

- A) Havanın soğuk , nem miktarının fazla olduğu bölgeler
- B) Havanın sıcak, bitki örtüsünün zengin olduğu bölgeler
- C) Rüzgârın fazla, nemin az olduğu bölgeler
- D) Havanın sıcak, nem miktarının fazla olduğu bölgeler
- E) Havanın soğuk, rüzgarın fazla olduğu bölgeler

A

4 **Eşderinlik eğrileri (İzobat) için aşağıdakilerden hangisi SÖYLENEMEZ?**

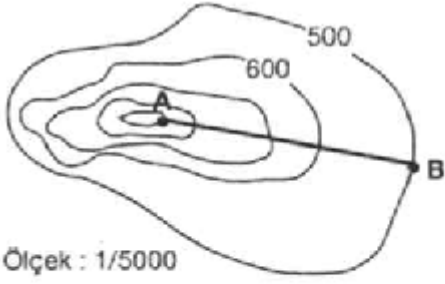
- A) 0-200 m derinlikleri yeşil renklerle gösterilir.
- B) En derin yerler koyu mavi ile gösterilir.
- C) Aynı derinliğe sahip noktaları birleştiren eğrilerdir.
- D) İçteki eğriler dıştakilerden daha derin alanları ifade eder.
- E) İzobatlar arasındaki aralıkları ölçeğe göre belirlenir.

5 **Yüzey şekillerinin tarama yöntemiyle gösterildiği haritalarda, tarama çizgilerinin geçmediği ortamlar aşağıdakilerden hangisini ifade eder?**

- A) Tepe noktalarını
- B) Düz olan yerleri
- C) Vadileri
- D) Eğimin fazla olduğu yerleri
- E) Sırtları

A

6



Ölçek değeriyle birlikte verilen izohips haritasından yararlanarak haritada 3 cm olan A-B doğrusu boyunca aşağıdaki özelliklerden hangisiyle ilgili yorum yapılamaz?

- A) Toprak yapısı
- B) Yükselti değerleri
- C) Yükselti farkı
- D) Eğim
- E) Yolun gerçek uzunluğu

7 **Bağıl nemi %80 olan bir hava kütleşi aşağıdaki durumlardan hangisinde yağış bırakır?**

- A) Basınç artarsa
- B) Sıcaklığı artarsa
- C) Bir yamaç boyunca alçalırsa
- D) Bir yamaç boyunca yükselirse
- E) Rüzgâr çıkarsa

8 **En çok boylam ve en çok enlem geçen bölgelerimiz sırasıyla aşağıdakilerden hangisinde doğru olarak verilmiştir?**

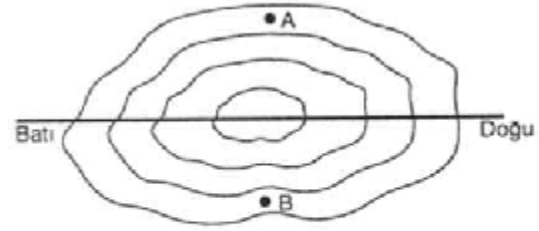
- A) Akdeniz - İç Anadolu
- B) Güneydoğu Anadolu - Ege
- C) Ege - Doğu Anadolu
- D) Karadeniz - Akdeniz
- E) Karadeniz - Doğu Anadolu

A

9 **Sıcak ve soğuk hava kütlelerinin karşılaşması sonucu gerçekleşen cephe yağışları önce Karadeniz kıyılarında görülür. Bu durum aşağıdakilerden hangisiyle açıklanabilir?**

- A) Matematik konumla
- B) Dağların uzanış yönüyle
- C) Dağların yükseltileriyle
- D) Denize komşu oluşla
- E) Kıyıların uzanış şekliyle

10



Şekildeki dağın A noktasındaki ısınm a yıl boyunca, B noktasındaki ısımdan fazla ise, bu dağ için aşağıda verilenlerin hangisi kesinlikle doğrudur?

- A) Ekvator ile Yengeç Dönencesi arasındadır
- B) Yengeç dönencesinin kuzeyindedir
- C) Ekvator üzerindedir
- D) Ekvator ile Oğlak Dönencesi arasındadır
- E) Oğlak Dönencesi'nin güneyindedir

11 **Kırsal alanlardan kentsel alanlara doğru yaşanan göç hareketine, aşağıdaki illerimizden hangisini örnek verebiliriz?**

- A) İzmit
- B) Ağrı
- C) Bursa
- D) İzmir
- E) İstanbul

A

12 Aşağıdaki akarsulardan hangisinin akımının fazla olması, Ekvatorial bölgede olmasının bir sonucudur?

- A) Volga
- B) Mississippi
- C) Ganj
- D) Kongo
- E) Tuna

13 Aşağıda B.D.T. üyesi bazı ülkeler ve bu ülkelerin önemli birer zenginliği verilmiştir. Bu eşleştirmelerden hangisi yanlıştır?

- A) Özbekistan - Pamuk
- B) Kazakistan - Petrol
- C) Türkmenistan - Doğalgaz
- D) Azerbeycan - Petrol
- E) Kırgızistan - Bakır

14 Yeni Zelenda'da buğday hasadı yapılırken, Fransa'da buğday yeni ekilmektedir. Bu ülkelerde aynı bitkinin farklı zamanlarda ekilip, hasad edilmesinde aşağıdakilerden hangisinin etkisi yoktur?

- A) İki ülkende aynı anda farklı mevsimlerin yaşanması
- B) Dünya'nın buğday ihtiyacının fazla olmaması
- C) Fransa'nın kuzey yarımkürede yer alması
- D) Fransa'nın güneş ışınlarını Yeni Zelenda'dan daha eğik açıyla alması
- E) Yeni Zelenda'nın Güney Yarımkürede bulunması

A

15 Türkiye'de yetişme alanının dar olması iklime bağlı olan tarım ürünleri aşağıdaki seçeneklerden hangisinde doğru olarak verilmiştir?

- A) Çay , Muz, Fındık
- B) Gül, Çay, Pirinç
- C) Muz, Üzüm, Mısır
- D) Üzüm, Elma, Armut
- E) Çay, Fındık, Haşhaş

16 Türkiye'de sıcaklık dağılışı üzerinde aşağıdakilerden hangisinin etkisi yoktur?

- A) Deniz akıntıları
- B) Yükselti değerleri
- C) Enlem
- D) Nemlilik
- E) Basınç merkezleri

17 I. Büyükbaş hayvancılık
II. Yeraltı kaynakları
III. Enerji üretimi
IV. Sebze tarımı
V. Turizm

Doğu Anadolu Bölgesi yukarıdaki ekonomik etkinliklerden hangilerinde diğerlerine göre daha geridedir?

- A) I ve II
- B) IV ve V
- C) II ve IV
- D) II ve III
- E) III ve V

A

18 75° Doğu'da güneş yerel saatle 05.40'da doğuyor.

Aynı gün, 40° doğuda güneş, 75° doğunun yerel saati ile kaçta doğacağı söylenebilir?

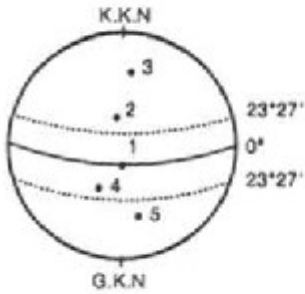
- A) 03.20
- B) 06.00
- C) 02.20
- D) 08.00
- E) 09.00

19 Ay'da bir kayanın gölgesinde bir kaç saat kalan bir insanın kanı donar ve ölür.

Gölge yerlerin bu derece soğuk olması Ay'ın hangi özelliğinden kaynaklanmaktadır?

- A) Atmosferinin olmamasından
- B) İç ısısını kaybetmesinden
- C) Yörüngesinin helezonik olmasından
- D) Güneş'e çok uzak olmasından
- E) Çekim gücünün az olmasından

20



Şekilde numaralı noktalardan hangisinde çizgisel hız daha büyüktür?

- A) 2
- B) 3
- C) 1
- D) 4
- E) 5

A

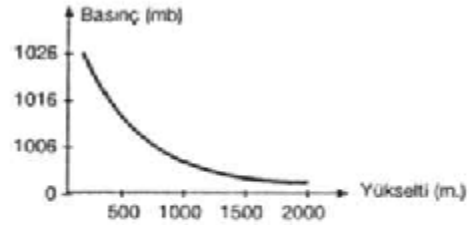
21 Aşağıdakilerden hangisi erozyona karşı alınabilecek tedbirlerden biri DEĞİLDİR?

- A) Çayır ve meraların korunması
- B) Orman yangınlarının kontrol edilmesi
- C) Toprakların nadasa bırakılması
- D) Eğimli arazilerin taraçalanması
- E) Hayvanların aşırı otlatılmasının önlenmesi

22 Ekvatorial iklim bölgelerinde yaygın olan toprak türü aşağıdakilerden hangisidir?

- A) Podzol topraklar
- B) Terra - Rossa topraklar
- C) Kahverengi topraklar
- D) Çernozyon topraklar
- E) Laterit topraklar

23



Yukarıdaki grafikte yükselti ile basınç arasındaki ilişki gösterilmiştir.

Buna göre, aşağıdakilerden hangisi, yükselti-basınç etkileşimini en iyi açıklar?

- A) Yükselti ile basınç ters orantılıdır.
- B) Yükselti sıcaklık ile ilişkilidir.
- C) Yükselti ile basınç bağımsız değişkenlerdir.
- D) Yükselti ile basınç doğru orantılıdır.
- E) Basınç sıcaklığa bağlı olarak değişir.

A

24 Aşağıdakilerden hangisinin yeryüzündeki konumu, okyanus akıntılarının etkisine bağlı bir uzanmış gösterir?

- A) Oğlak Dönencesi
- B) Yengeç Dönencesi
- C) Termik Ekvator
- D) Kutup noktaları
- E) Kutup daireleri

25 Soğuk su bol miktarda oksijen; sıcak su ise bol miktarda plankton içerir. Buna göre sıcak ve soğuk su akıntılarının karşılaşma alanları hangi yönden zengindir?

- A) Tuzluluk
- B) Balık
- C) Buharlaşma
- D) Mercan kayalar
- E) Buzul

26 Gelişmiş ülkelerde sağlık hizmetleri, beslenme şartları iyi olduğundan yaşlı nüfus fazladır. Buna göre, aşağıdaki ülkelerden hangisinde yaşlı nüfusun daha fazla olduğu söylenebilir?

- A) Irak
- B) Türkiye
- C) Pakistan
- D) İran
- E) Danimarka

A

27 Aşağıdaki yerlerden hangisindeki nüfus yoğunluğu en fazladır?

- A) Güneydoğu Asya
- B) Kuzey Afrika
- C) Sibirya
- D) Amazon Havzası
- E) Bering Boğazı Çevresi

28 Türkiye'de dağların uzanış yönü, kıyı ile iç kesimler arasında iklim yönünden farklılıklara neden olmaktadır. Bu farklılık, aşağıdaki bölümlerin hangisinde en azdır?

- A) Kıyı Ege
- B) Doğu Karadeniz
- C) Antalya
- D) Batı Karadeniz
- E) Adana

29 Aşağıdakilerden hangisi ektansif tarımın yaygın olduğu bölgelerin ortak özelliği değildir?

- A) Modern tarım fazla yaygınlaşmamıştır
- B) Nüfus azdır
- C) Nadasa ayrılan arazi bazen fazladır
- D) Tarıma elverişli alanlar geniştir
- E) İklim şartlarından etkilenmez

A

- 30 Aşağıdakilerden hangisi yeryüzündeki sıcaklık dağılımında etkili değildir?
- A) Rüzgarlar
B) Deniz akıntıları
C) Karaların ve denizlerin ısınma özellikleri
D) Yükselti farkları
E) Buzullar
- 31 Kalecik köyü yakınlarındaki elektrik santrali hangi ilçemiz sınırları içerisindedir?
- A) Mağusa
B) Girne
C) Lefkoşa
D) Güzelyurt
E) İskele
- 32 KKTC yeraltı su kaynakları bakımından zengin olmasından dolayı sulu tarımın yapılabildiği ova hangisidir?
- A) Alayköy ovası
B) Yeşilyurt ovası
C) Yeşilirmak ovası
D) Güzelyurt ovası
E) Yeşilköy ovası
- 33 Aşağıdakilerden hangisi ülkemizde en fazla yetiştirilen kuru tarım ürünüdür?
- A) Buğday
B) Nohut
C) Arpa
D) Bezelye
E) Patatez

A

- 34 Yeşilirmak koyunun kuzeyinde kıydan 80 metre uzakta bulunan bir adacıktır. Kıbrıs'ta ilk kez bilimsel kazı çalışmalarının yapıldığı bu ilk yerleşim yerlerinden olan ada aşağıdakilerden hangisidir?
- A) Karmi
B) Vrysi
C) Tenta
D) Petra tou limnidi
E) Salamis
- 35 Kıbrısta çok eski dönemlerden itibaren Trodos dağlarında yaşayan yabani koyun türünün adı nedir?
- A) Kıl koyunu
B) Muflon
C) Bufalo
D) Karatez
E) Çıngırık
- 36 Kıbrısın en büyük göleti olan Gemikonağı göleti hangi dere üzerine inşa edilmiştir?
- A) Çiflikdere
B) Uzundere
C) Kanlıdere
D) Madendere
E) Köprüdere

A

37 Aşağıdaki kelimelerden hangisi, Kıbrıs'ın Yunanistan'a bağlanması fikriyle özdeşleşmiştir?

- A) Enosis
- B) Milliyetçilik
- C) EOKA
- D) Megali İdea
- E) Büyük Ülkü

38 Aşağıdakilerden hangisi 1960 Kıbrıs Cumhuriyeti Anayasası'nda yer almaz?

- A) Cumhuriyetin tarafsız renk ve desende bir bayrağı olacak
- B) Her iki toplumun kendilerine ait birer cemaat meclisleri olacak
- C) Cumhuriyetin resmi dili Türkçe ve Rumca olacak
- D) Cumhuriyetin, veto yetkisi olmayan cumhurbaşkanı Kıbrıslı Rum, veto yetkisi olan cumhurbaşkanı muavini ise Kıbrıslı Türk olacak.
- E) Cumhuriyetin en büyük beş şehri olan Lefkoşa, Limasol, Mağusa, Baf ve Larnaka'da Kıbrıslı Türklerin ayrı belediyeleri olacak

39 Aşağıdakilerden hangisi Kıbrıs'ta İngilizler tarafından kurulan sömürge kurumlarından biridir?

- A) Evkaf
- B) İdare Meclisleri
- C) Şeri Mahkeme
- D) Kavanin Meclisi
- E) Hiçbiri

A

40 Kıbrıs Ortodoks Kilisesi'nin "bağımsız" statüsü kazanmasının, aşağıdakilerin hangisiyle ilgili olduğu söylenebilir?

- A) Kıbrıs'taki Hıristiyanların Müslüman Arap akınlarına karşı direnmiş olmaları
- B) Kıbrıs Kilisesi'nin HZ İsa'nın havarilerinden olan Aziz Barnabas tarafından kurulduğunun kabul edilmesi
- C) Adadaki Ortodoksların Katoliklerle çatışma halinde olması
- D) Antakya Kilisesinin ve İstanbul'daki Patrikhane'nin Kıbrıs Kilisesi'ni kendilerine bağlamak istememeleri
- E) Hepsi

41 Kıbrıs Adası tarih boyunca çeşitli isimlerle anılmıştır. Aşağıdakilerden hangisi bu isimlerden bir tanesi değildir?

- A) Kıprus
- B) Alasya
- C) Aspelya
- D) Paphos
- E) Symirna

42 1947 yılında Kıbrıslı Türklerin sorunlarını belirlemek amacıyla oluşturulan "Türk İşleri Komisyonu" nun başkanlığına getirilen ve Avrupa Konseyi İnsan Hakları Mahkemesi'nde de görev yapan ünlü Kıbrıslı Türk hukukçu aşağıdakilerden hangisidir?

- A) Dr Fazıl Küçük
- B) Mehmet Zeka
- C) Fadıl Niyazi Korkut
- D) Rauf Raif Denктаş
- E) A. Faiz Kaymak

A

- 43 Kıbrıs, 1191 yılından itibaren Katolik-Latin yönetimleri altına girmiştir. Aşağıdakilerden hangisi Katolik-Latin yönetimlerden biri değildir?
- A) Venedik Yönetimi
B) Lüzinyan Yönetimi
C) İngiliz Yönetimi
D) Doğu Roma Yönetimi
E) Hiçbiri
- 44 1877-1878 Osmanlı-Rus Savaşı'ndan yenik çıkan Osmanlı Devleti, 3 Mart 1878 tarihinde Rusya ile, oldukça ağır şartlar içeren hangi anlaşmayı imzalamak zorunda kalmıştır?
- A) Paris Anlaşması
B) Berlin Antlaşması
C) Kıbrıs Savunma ve İttifak Anlaşmaları
D) Ayastefanos/Yeşilköy Antlaşması
E) Sevr Anlaşması
- 45 Aşağıdakilerden hangisi, Kıbrıslı Türk liderlerden biri olan Necati Özkan'ın kurmuş olduğu, "altı ok" amblemlisi siyasal partidir?
- A) Cumhuriyet Halk Partisi
B) Kıbrıs Milli Türk Birliği
C) Kıbrıs Milli Türk Halk Partisi
D) Kıbrıs Türk Birliği İstiklal Partisi
E) Lefkoşa Türk İşçiler Birliği

A

- 46 Kıbrıs aşağıdaki devletlerin hangisinin yönetimi altına girmemiştir?
- A) Yunanistan
B) Helenistik İmparatorluk
C) Osmanlı İmparatorluğu
D) Bizans İmparatorluğu
E) Roma İmparatorluğu
- 47 Kuruluş döneminde Osmanlı Devleti, Fetih hareketlerini Rumeli üzerine yoğunlaştırmıştır. Aşağıdakilerden hangisi, bunun nedenlerinden biri değildir?
- A) Anadolu'daki Türkmen Beyliklerinin güçlü olması
B) Peçeneklerle işbirliği yapması
C) Anadolu'ya gelen Türkmenlere yurt bulunması
D) Kardeş kanı dökmeme arzusu
E) Cihat fikrinin gerçekleştirilmesi
- 48 I. Ahmet döneminde, şehzadeleri sancaklara gönderme uygulaması kaldırılarak, hanedanın en yaşlı üyesinin saltanatın başına geçmesi yasallaştırılmıştır. Bu durumun, Osmanlı yönetiminde yarattığı aksaklık aşağıdakilerden hangisidir?
- A) Ülkede sık sık isyanların çıkması
B) Devlet otoritesinin yok olması
C) Şehzadelerin yönetim deneyimi ve tanınma fırsatı bulamaması
D) Valide Sultanların saltanata egemen olması
E) Devlet adamlarının sık sık değiştirilmesi

A

49 Eski Tunç veya Bakır Devri, Anadolu'da tarihi devirlere geçiş dönemidir. Bu dönemde üretim artmış, ticaret hayatı gelişmiştir. Anadolu'ya yazının gelmesi de bu döneme rastlamaktadır. Anadolu'ya yazının gelmesi öncelikle aşağıdakilerden hangisinin vasıtasıyla gerçekleşmiştir?

- A) Sümerler
- B) Asurlar
- C) Akadlar
- D) Babiller
- E) Elamlar

50

Aşağıdaki denizcilerden hangisi, dünyanın yuvarlak olduğuna, batıdan gidildiğinde, yine aynı noktaya gelineceğine inanıyordu?

- A) Macellan
- B) Vasko do Gama
- C) Bartelmi Diyaz
- D) Korteiz
- E) Kristof Kolomb

51 Atatürk, "Siyasi, askeri zaferler ne kadar büyük olursa olsunlar, ekonomik başarılar ile taçlandırılmazlarsa kalıcı ve sürekli olamazlar ve meydana gelen zaferler varlıklarını sürdüremez, az zaman sonra sönerler" demiştir. Aşağıdakilerin hangisi bu düşüncenin sonucudur?

- A) Türkiye Devleti demokratik ve laik olacaktır
- B) Türkiye Devleti bir kültür devleti olacaktır
- C) Türkiye Devleti bir ekonomi devleti olacaktır
- D) Türkiye Devleti bir islam devleti olacaktır
- E) Türkiye Devleti daima askeri zaferler kazanacaktır

A

52

Fatih'in İstanbul'u kuşatması sırasında, Avrupa'dan üç gemi dışında herhangi bir

yardım gelmemiştir. Aşağıdakilerden hangisi bunların en önemli nedenidir?

- A) Haçlıların Varna ve Kosova'daki başarısızlıkları
- B) Bizansın Ortodoks mezhebinden olması
- C) Haçlıların birlik ve beraberlik içinde bulunmaları
- D) Rumeli'ye gönderilen Türk kuvvetlerinin engellemeleri
- E) İstanbul'un çevresinin Türk kuvvetlerince çevrilmiş olması

53

1243 yılında Moğollarla yaptıkları savaşı kaybederek yıkılma sürecine giren Türk

devleti aşağıdakilerden hangisidir?

- A) Karahanlılar
- B) Osmanlı Devleti
- C) Türkiye Selçukluları
- D) Büyük Selçuklular
- E) Gazneliler

A

A

54 İslâmiyetten önce Güney Arabistan'da bazı devletler kurulmuştur. Arap Yarımadası'nın orta ve kuzey kısmında da şehir devletleri şeklinde, küçük devletler kurulmuştur. Bu devletler de güneydekiler gibi ticaretle uğraşıyorlardı. Gerek kuruluş ve gerekse gelişmelerinde askeri bir kimlikle ortaya çıkmamışlardı. Aşağıdakilerden hangisi, İslâmiyetten önce Arap Yarımada'sında kurulan devletlerden biri değildir?

- A) Urartu
- B) Sebe
- C) Himyeri
- D) Nabati
- E) Mina

55

Aşağıdakilerden hangisi, Haçlı Seferlerinin Avrupa'daki sonuçlarıyla ilgili değildir?

- A) Avrupa'nın siyasi durumu değişti
- B) Papaların toplum üzerindeki etkisi arttı
- C) Feodalite zayıfladı
- D) Bilim ve teknik alanda gelişmeler oldu
- E) Akdeniz liman şehirlerinin önemi arttı

56

Aşağıdakilerden hangisi Moğol İmparatorluğu parçalandıktan sonra yerine kurulan devletlerden değildir?

- A) Altın Orda
- B) Eyyubiler
- C) Çağataylılar
- D) İlhanlılar
- E) Kubilay Hanlığı

TEST BİTTİ
CEVAPLARINIZI KONTROL EDİNİZ